

## अवकल समीकरण Differential Equations

❖ *He who seeks for methods without having a definite problem in mind seeks for the most part in vain – D. HILBERT* ❖

### 9.1 भूमिका ( Introduction )

कक्षा XI एवं इस पुस्तक के अध्याय 5 में हमने चर्चा की थी, कि एक स्वतंत्र चर के सापेक्ष किसी फलन  $f$  का अवकलज कैसे ज्ञात किया जाता है अर्थात् किसी फलन  $f$  की परिभाषित प्रांत के प्रत्येक  $x$  के लिए,  $f'(x)$  कैसे ज्ञात किया जाता है। इसके अतिरिक्त समाकल गणित के अध्याय में हमने चर्चा की थी, कि यदि किसी फलन  $f$  का अवकलज फलन  $g$  है तो फलन  $f$  कैसे ज्ञात किया जाए। इसको निम्न रूप में सूत्रबद्ध किया जा सकता है:

किसी दिए हुए फलन  $g$  के लिए फलन  $f$  ज्ञात कीजिए ताकि

$$\frac{dy}{dx} = g(x) \text{ जहाँ } y = f(x) \quad \dots (1)$$

समीकरण (1) के रूप वाले समीकरण को अवकल समीकरण कहते हैं। इसकी औपचारिक परिभाषा बाद में दी जाएगी।

अवकल समीकरणों का उपयोग मुख्य रूप से भौतिकी, रसायन विज्ञान, जीव विज्ञान, मानव विज्ञान, भूविज्ञान, अर्थशास्त्र आदि विभिन्न क्षेत्रों में किया जाता है। अतः सभी अत्याधुनिक वैज्ञानिक अन्वेषणों के लिए अवकल समीकरणों के गहन अध्ययन की अत्यंत आवश्यकता है। इस अध्याय में, हम अवकल समीकरण की कुछ आधारभूत संकल्पनाओं, अवकल समीकरण के व्यापक एवं विशिष्ट हल, अवकल समीकरण का निर्माण, प्रथम कोटि एवं प्रथम घात के अवकल समीकरण को हल करने की कुछ विधियाँ और विभिन्न क्षेत्रों में अवकल समीकरणों के कुछ उपयोगों के बारे में अध्ययन करेंगे।



Henri Poincaré  
(1854-1912)

## 9.2 आधारभूत संकल्पनाएँ (Basic Concepts)

हम पहले से ही निम्नलिखित प्रकार के समीकरणों से परिचित हैं

$$x^2 - 3x + 3 = 0 \quad \dots (1)$$

$$\sin x + \cos x = 0 \quad \dots (2)$$

$$x + y = 7 \quad \dots (3)$$

आइए निम्नलिखित समीकरण पर विचार करें

$$x \frac{dy}{dx} + y = 0 \quad \dots (4)$$

हम पाते हैं कि समीकरणों (1), (2) एवं (3) में केवल स्वतंत्र और/अथवा आश्रित चर (एक या अधिक) शामिल हैं जब कि समीकरण (4) में चर के साथ-साथ स्वतंत्र चर ( $x$ ) के सापेक्ष आश्रित चर ( $y$ ) का अवकलज भी शामिल है। इस प्रकार का समीकरण अवकल समीकरण कहलाता है।

सामान्यतः एक ऐसा समीकरण, जिसमें स्वतंत्र चर (चरों) के सापेक्ष आश्रित चर के अवकलज सम्मिलित हों, अवकल समीकरण कहलाता है।

एक ऐसा अवकल समीकरण, जिसमें केवल एक स्वतंत्र चर के सापेक्ष, आश्रित चर के अवकलज सम्मिलित हों, सामान्य अवकल समीकरण कहलाता है। उदाहरणतया

$$2 \frac{d^2y}{dx^2} + \left( \frac{dy}{dx} \right)^3 = 0 \quad \dots (5)$$

एक सामान्य अवकल समीकरण है।

निःसन्देह ऐसे भी अवकल समीकरण होते हैं जिनमें एक से अधिक स्वतंत्र चरों के सापेक्ष अवकलज शामिल होते हैं, इस प्रकार के अवकल समीकरण आंशिक अवकल समीकरण कहलाते हैं। लेकिन इस स्तर पर हम अपने आप को केवल सामान्य अवकल समीकरणों के अध्ययन तक सीमित रखेंगे। इससे आगे हम सामान्य अवकल समीकरण के लिए अवकल समीकरण शब्द का ही उपयोग करेंगे।

### टिप्पणी

- हम अवकलजों के लिए निम्नलिखित संकेतों के उपयोग को वरीयता देंगे

$$\frac{dy}{dx} = y', \quad \frac{d^2y}{dx^2} = y'', \quad \frac{d^3y}{dx^3} = y'''$$

- उच्च कोटि वाले अवकलजों के लिए, इतने अधिक डैशों (dashes) को उच्च प्रत्यय के रूप में प्रयुक्त करना असुविधाजनक होगा इसलिए  $n$ वें कोटि वाले अवकलज  $\frac{d^n y}{dx^n}$  के लिए हम संकेत  $y_n$  का उपयोग करेंगे।

### 9.2.1 अवकल समीकरण की कोटि (Order of a differential equation)

किसी अवकल समीकरण की कोटि उस अवकल समीकरण में सम्मिलित स्वतंत्र चर के सापेक्ष आश्रित चर के उच्चतम कोटि के अवकलज की कोटि द्वारा परिभाषित होती है।

निम्नलिखित अवकल समीकरणों पर विचार कीजिए:

$$\frac{dy}{dx} = e^x \quad \dots (6)$$

$$\frac{d^2y}{dx^2} + y = 0 \quad \dots (7)$$

$$\frac{d^3y}{dx^3} + x^2 \left( \frac{d^2y}{dx^2} \right)^3 = 0 \quad \dots (8)$$

समीकरण (6), (7) एवं (8) में क्रमशः प्रथम, द्वितीय एवं तृतीय कोटि के उच्चतम अवकलज उपस्थित हैं इसलिए इन समीकरणों की कोटि क्रमशः 1, 2 एवं 3 है।

### 9.2.2 अवकल समीकरण की घात (Degree of a differential equation)

किसी अवकल समीकरण की घात का अध्ययन करने के लिए मुख्य बिंदु यह है कि वह अवकल समीकरण, अवकलजों  $y'$ ,  $y''$ ,  $y'''$  इत्यादि में बहुपद समीकरण होना चाहिए। निम्नलिखित समीकरणों पर विचार कीजिए:

$$\frac{d^3y}{dx^3} + 2 \left( \frac{d^2y}{dx^2} \right)^2 - \frac{dy}{dx} + y = 0 \quad \dots (9)$$


$$\left( \frac{dy}{dx} \right)^2 + \frac{dy}{dx} - \sin^2 y = 0 \quad \dots (10)$$

$$\frac{dy}{dx} + \sin \left( \frac{dy}{dx} \right) = 0 \quad \dots (11)$$

हम प्रेक्षित करते हैं कि समीकरण (9)  $y'''$ ,  $y''$  एवं  $y'$  में बहुपद समीकरण है। समीकरण (10)  $y'$  में बहुपद समीकरण है (यद्यपि यह  $y$  में बहुपद नहीं है) इस प्रकार के अवकल समीकरणों की घात को परिभाषित किया जा सकता है। परंतु समीकरण (11)  $y'$  में बहुपद समीकरण नहीं है और इस प्रकार के अवकल समीकरण की घात को परिभाषित नहीं किया जा सकता है।

यदि एक अवकल समीकरण अवकलजों का बहुपद समीकरण है तो उस अवकल समीकरण की घात से हमारा तात्पर्य है उस अवकल समीकरण में उपस्थित उच्चतम कोटि के अवकलज की उच्चतम घात (धनात्मक पूर्णांक)

उपरोक्त परिभाषा के संदर्भ में हम प्रेक्षित कर सकते हैं कि समीकरणों (6), (7), (8) एवं (9) में से प्रत्येक की घात 1 है, समीकरण (10) की घात 2 है जब कि अवकल समीकरण (11) की घात परिभाषित नहीं है।

 **टिप्पणी** किसी अवकल समीकरण की कोटि एवं घात (यदि परिभाषित हो) हमेशा धनात्मक पूर्णांक होते हैं।

**उदाहरण 1** निम्नलिखित अवकल समीकरणों में से प्रत्येक की कोटि एवं घात (यदि परिभाषित हो) ज्ञात कीजिए:

(i)  $\frac{dy}{dx} - \cos x = 0$       (ii)  $xy \frac{d^2y}{dx^2} + x \left( \frac{dy}{dx} \right)^2 - y \frac{dy}{dx} = 0$

(iii)  $y''' + y^2 + e^{y'} = 0$

**हल**

(i) इस अवकल समीकरण में उपस्थित उच्चतम कोटि अवकलज  $\frac{dy}{dx}$  है। इसलिए इसकी कोटि 1 है। यह  $y'$  में बहुपद समीकरण है एवं  $\frac{dy}{dx}$  की अधिकतम घातांक 1 है, इसलिए इस अवकल समीकरण की घात 1 है।

(ii) इस अवकल समीकरण में उपस्थित उच्चतम कोटि अवकलज  $\frac{d^2y}{dx^2}$  है। इसलिए इसकी कोटि 2 है। यह अवकल समीकरण  $\frac{d^2y}{dx^2}$  एवं  $\frac{dy}{dx}$  में बहुपद समीकरण है और  $\frac{d^2y}{dx^2}$  की अधिकतम घातांक 1 है, इसलिए इस अवकल समीकरण की घात 1 है।

(iii) इस अवकल समीकरण में उपस्थित उच्चतम कोटि अवकलज  $y'''$  है। इसलिए इसकी कोटि 3 है। इस समीकरण का बायाँ पक्ष अवकलजों में बहुपद नहीं है इसलिए इसकी घात परिभाषित नहीं है।

### प्रश्नावली 9.1

1 से 10 तक के प्रश्नों में प्रत्येक अवकल समीकरण की कोटि एवं घात (यदि परिभाषित हो) ज्ञात कीजिए।

1.  $\frac{d^4y}{dx^4} + \sin(y''') = 0$       2.  $y' + 5y = 0$       3.  $\left( \frac{ds}{dt} \right)^4 + 3s \frac{d^2s}{dt^2} = 0$

4.  $\left(\frac{d^2y}{dx^2}\right)^2 + \cos\left(\frac{dy}{dx}\right) = 0$                       5.  $\frac{d^2y}{dx^2} = \cos 3x + \sin 3x$

6.  $(y''')^2 + (y'')^3 + (y')^4 + y^5 = 0$                       7.  $y''' + 2y'' + y' = 0$

8.  $y' + y = e^x$                       9.  $y'' + (y')^2 + 2y = 0$                       10.  $y'' + 2y' + \sin y = 0$

11. अवकल समीकरण

$\left(\frac{d^2y}{dx^2}\right)^3 + \left(\frac{dy}{dx}\right)^2 + \sin\left(\frac{dy}{dx}\right) + 1 = 0$  की घात है:

- (A) 3                      (B) 2                      (C) 1                      (D) परिभाषित नहीं है

12. अवकल समीकरण  $2x^2 \frac{d^2y}{dx^2} - 3 \frac{dy}{dx} + y = 0$  की कोटि है:

- (A) 2                      (B) 1                      (C) 0                      (D) परिभाषित नहीं है

### 9.3. अवकल समीकरण का व्यापक एवं विशिष्ट हल (General and Particular Solutions of a Differential Equation)

पिछली कक्षाओं में हमने निम्नलिखित प्रकार के समीकरणों को हल किया है:

$$x^2 + 1 = 0 \quad \dots (1)$$

$$\sin^2 x - \cos x = 0 \quad \dots (2)$$

समीकरणों (1) तथा (2) का हल एक ऐसी वास्तविक अथवा सम्मिश्र संख्या है जो दिए हुए समीकरण को संतुष्ट करती है अर्थात् जब इस संख्या को समीकरण में अज्ञात  $x$  के स्थान पर प्रतिस्थापित कर दिया जाता है तो दायें पक्ष और बायें पक्ष आपस में बराबर हो जाते हैं।

अब अवकल समीकरण  $\frac{d^2y}{dx^2} + y = 0 \quad \dots (3)$

पर विचार करते हैं।

प्रथम दो समीकरणों के विपरीत इस अवकल समीकरण का हल एक ऐसा फलन  $\phi$  है जो इस समीकरण को संतुष्ट करेगा अर्थात् जब इस फलन  $\phi$  को अवकल समीकरण में अज्ञात  $y$  (आश्रित चर) के स्थान पर प्रतिस्थापित कर दिया जाता है तो बायें पक्ष और दायें पक्ष बराबर हो जाते हैं।

वक्र  $y = \phi(x)$  अवकल समीकरण का हल वक्र (समाकलन वक्र) कहलाता है। निम्नलिखित फलन पर विचार कीजिए

$$y = \phi(x) = a \sin(x + b) \quad \dots (4)$$

जहाँ  $a, b \in \mathbf{R}$ . यदि इस फलन और इसके अवकलजों को समीकरण (3) में प्रतिस्थापित कर दिया जाए तो बायाँ पक्ष और दायाँ पक्ष बराबर हो जाते हैं। इसलिए यह फलन अवकल समीकरण (3) का हल है।

मान लीजिए कि  $a$  और  $b$  को कुछ विशिष्ट मान  $a = 2$  एवं  $b = \frac{\pi}{4}$  दे दिए जाते हैं तो हमें निम्नलिखित फलन प्राप्त होता है:

$$y = \phi_1(x) = 2 \sin\left(x + \frac{\pi}{4}\right) \quad \dots (5)$$

यदि इस फलन और इसके अवकलजों को समीकरण (3) में प्रतिस्थापित कर दिया जाए तो पुनः बायाँ पक्ष और दायाँ पक्ष बराबर हो जाते हैं। इसलिए  $\phi_1$  भी समीकरण (3) का एक हल है।

फलन  $\phi$  में दो स्वेच्छ अचर (प्राचल)  $a, b$  सम्मिलित हैं तथा यह फलन दिए हुए अवकल समीकरण का व्यापक हल कहलाता है। जबकि फलन  $\phi_1$  में कोई भी स्वेच्छ अचर सम्मिलित नहीं है लेकिन प्राचलों  $a$  तथा  $b$  के विशिष्ट मान उपस्थित हैं और इसलिए इसको अवकल समीकरण का विशिष्ट हल कहा जाता है।

ऐसा हल, जिसमें स्वेच्छ अचर उपस्थित हो अवकल समीकरण का व्यापक हल कहलाता है।

ऐसा हल, जो स्वेच्छ अचरों से मुक्त है अर्थात् व्यापक हल में स्वेच्छ अचरों को विशिष्ट मान देने पर प्राप्त हल, अवकल समीकरण का विशिष्ट हल कहलाता है।

**उदाहरण 2** सत्यापित कीजिए कि फलन  $y = e^{-3x}$ , अवकल समीकरण  $\frac{d^2y}{dx^2} + \frac{dy}{dx} - 6y = 0$  का एक हल है।

**हल** दिया हुआ फलन  $y = e^{-3x}$  है। इसके दोनों पक्षों का  $x$  के सापेक्ष अवकलन करने पर हम प्राप्त करते हैं:

$$\frac{dy}{dx} = 3e^{-3x} \quad \dots (1)$$

अब समीकरण (1) का  $x$  के सापेक्ष पुनः अवकलन करने पर हम देखते हैं कि

$$\frac{d^2y}{dx^2} = 9e^{-3x}$$

$\frac{d^2y}{dx^2}, \frac{dy}{dx}$  और  $y$  का मान, दिए गए अवकल समीकरण में प्रतिस्थापित करने पर पर हम पाते हैं कि

$$\text{बायाँ पक्ष} = 9e^{-3x} + (-3e^{-3x}) - 6 \cdot e^{-3x} = 9e^{-3x} - 9e^{-3x} = 0 = \text{दायाँ पक्ष}$$

इसलिए दिया हुआ फलन दिए हुए अवकल समीकरण का एक हल है।

**उदाहरण 3** सत्यापित कीजिए कि फलन  $y = a \cos x + b \sin x$ , जिसमें  $a, b \in \mathbf{R}$ , अवकल

समीकरण  $\frac{d^2y}{dx^2} + y = 0$  का हल है।

**हल** दिया हुआ फलन है

$$y = a \cos x + b \sin x \quad \dots (1)$$

समीकरण (1) के दोनों पक्षों का  $x$ , के सापेक्ष उत्तरोत्तर अवकलन करने पर हम देखते हैं:

$$\frac{dy}{dx} = -a \sin x + b \cos x$$

$$\frac{d^2y}{dx^2} = -a \cos x - b \sin x$$

$\frac{d^2y}{dx^2}$  एवं  $y$  का मान दिए हुए अवकल समीकरण में प्रतिस्थापित करने पर प्राप्त करते हैं:

$$\text{बायाँ पक्ष} = (-a \cos x - b \sin x) + (a \cos x + b \sin x) = 0 = \text{दायाँ पक्ष}$$

इसलिए दिया हुआ फलन, दिए हुए अवकल समीकरण का हल है।

### प्रश्नावली 9.2

1 से 10 तक प्रत्येक प्रश्न में सत्यापित कीजिए कि दिया हुआ फलन (स्पष्ट अथवा अस्पष्ट) संगत अवकल समीकरण का हल है:

1.  $y = e^x + 1$  :  $y'' - y' = 0$

2.  $y = x^2 + 2x + C$  :  $y' - 2x - 2 = 0$

3.  $y = \cos x + C$  :  $y' + \sin x = 0$

4.  $y = \sqrt{1+x^2}$  :  $y' = \frac{xy}{1+x^2}$

5.  $y = Ax$  :  $xy' = y$  ( $x \neq 0$ )

6.  $y = x \sin x$  :  $xy' = y + x \sqrt{x^2 - y^2}$  ( $x \neq 0$  और  $x > y$  अथवा  $x < -y$ )

7.  $xy = \log y + C$  :  $y' = \frac{y^2}{1-xy}$  ( $xy \neq 1$ )

8.  $y - \cos y = x$  :  $(y \sin y + \cos y + x) y' = y$

9.  $x + y = \tan^{-1}y$  :  $y^2 y' + y^2 + 1 = 0$

10.  $y = \sqrt{a^2 - x^2}$   $x \in (-a, a)$  :  $x + y \frac{dy}{dx} = 0$  ( $y \neq 0$ )

11. चार कोटि वाले किसी अवकल समीकरण के व्यापक हल में उपस्थित स्वेच्छ अचरों की संख्या है:

- (A) 0 (B) 2 (C) 3 (D) 4

12. तीन कोटि वाले किसी अवकल समीकरण के विशिष्ट हल में उपस्थित स्वेच्छ अचरों की संख्या है:

- (A) 3 (B) 2 (C) 1 (D) 0

#### 9.4. दिए हुए व्यापक हल वाले अवकल समीकरण का निर्माण (Formation of a Differential Equation whose Solution is Given)

हम जानते हैं कि समीकरण

$$x^2 + y^2 + 2x - 4y + 4 = 0 \quad \dots (1)$$

एक ऐसे वृत्त को निरूपित करता है जिसका केंद्र  $(-1, 2)$  है और त्रिज्या 1 इकाई है।

समीकरण (1) का  $x$ , के सापेक्ष अवकलन करने पर प्राप्त करते हैं

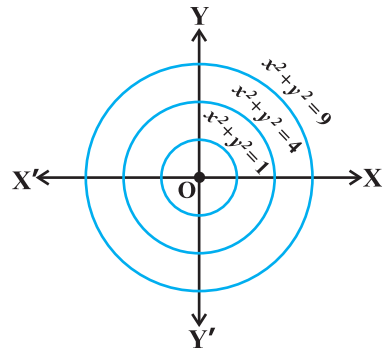
$$\frac{dy}{dx} = \frac{x+1}{2-y}, \quad (y \neq 2) \quad \dots (2)$$

यह एक अवकल समीकरण है। आप बाद में देखेंगे कि (अनुभाग 9.5.1 का उदाहरण 9 देखिए) कि यह समीकरण वृत्तों के एक कुल को निरूपित करता है और उस कुल का एक सदस्य समीकरण (1) में दिया हुआ वृत्त है। आइए निम्नलिखित समीकरण पर विचार करें:

$$x^2 + y^2 = r^2 \quad \dots (3)$$

$r$ , को विभिन्न मान देने पर हमें कुल के भिन्न सदस्य प्राप्त होते हैं उदाहरणतः  $x^2 + y^2 = 1$ ,  $x^2 + y^2 = 4$ ,  $x^2 + y^2 = 9$  इत्यादि (आकृति 9.1 देखिए)। इस प्रकार समीकरण (3) एक ऐसे संकेंद्री वृत्तों के कुल को निरूपित करता है जिनका केंद्र मूल बिंदु है और जिनकी त्रिज्याएँ भिन्न हैं।

हमारी रुचि इस कुल के प्रत्येक सदस्य द्वारा संतुष्ट किए जाने वाला अवकल समीकरण ज्ञात करने में है। यह समीकरण  $r$  से मुक्त होना चाहिए क्योंकि कुल के विभिन्न सदस्यों के लिए  $r$  का मान भिन्न है। समीकरण (3) का  $x$  के सापेक्ष



आकृति 9.1



अवकलन करने पर यह समीकरण प्राप्त किया जाता है। अर्थात्

$$2x + 2y \frac{dy}{dx} = 0 \quad \text{अथवा} \quad x + y \frac{dy}{dx} = 0 \quad \dots (4)$$

यह अवकल समीकरण, समीकरण (3) द्वारा निरूपित सकेन्द्री वृत्तों के कुल को निरूपित करता है। आइए फिर से निम्नलिखित समीकरण पर विचार करें:

$$y = mx + c \quad \dots (5)$$

प्राचलों  $m$  तथा  $c$ , के विभिन्न मानों से हमें कुल के विभिन्न सदस्य प्राप्त होते हैं उदाहरणतया

$$y = x \quad (m = 1, c = 0)$$

$$y = \sqrt{3}x \quad (m = \sqrt{3}, c = 0)$$

$$y = x + 1 \quad (m = 1, c = 1)$$

$$y = -x \quad (m = -1, c = 0)$$

$$y = -x - 1 \quad (m = -1, c = -1)$$

इत्यादि (आकृति 9.2 देखिए)।

इस प्रकार समीकरण (5) सरल रेखाओं के कुल को निरूपित करता है जिसमें  $m, c$  प्राचल हैं।

अब हमारी रुचि इस कुल के प्रत्येक सदस्य द्वारा संतुष्ट किए जाने वाला अवकल समीकरण ज्ञात करने में है। इसके अतिरिक्त वह समीकरण  $m$  तथा  $c$  से मुक्त होना चाहिए क्योंकि कुल के विभिन्न सदस्यों के लिए  $m$  तथा  $c$  का मान भिन्न है। यह अवकल समीकरण, समीकरण (5) का  $x$  के सापेक्ष क्रमानुसार दो बार अवकलन करने पर प्राप्त होता है अर्थात्

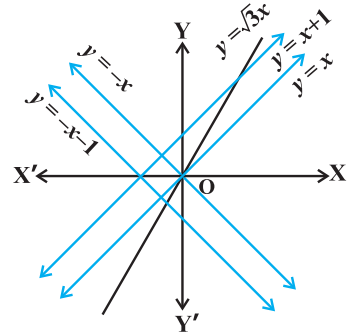
$$\frac{dy}{dx} = m \quad \text{तथा} \quad \frac{d^2y}{dx^2} = 0 \quad \dots (6)$$

समीकरण (6), समीकरण (5) द्वारा दिए हुए सरल रेखाओं के कुल को निरूपित करता है। टिप्पणी समीकरण (3) तथा (5) क्रमशः समीकरण (4) एवं (6) के व्यापक हल हैं।

### 9.4.1 दिए हुए वक्रों के कुल को निरूपित करने वाले अवकल समीकरण के निर्माण की प्रक्रिया (Procedure to form a Differential Equation that will represent a given Family of curves)

(a) यदि दिए हुए वक्रों का कुल  $F_1$  केवल एक प्राचल पर निर्भर करता है तो इसे निम्नलिखित रूप वाले समीकरण द्वारा निरूपित किया जाता है:

$$F_1(x, y, a) = 0 \quad \dots (1)$$



आकृति 9.2

उदाहरणतः, परवलयों  $y^2 = ax$  का कुल  $f(x, y, a) : y^2 = ax$  के रूप वाले समीकरण द्वारा निरूपित किया जा सकता है।

समीकरण (1) का  $x$  के सापेक्ष अवकलन करने पर हमें  $y', y, x$ , एवं  $a$  को सम्मिलित करने वाला एक समीकरण निम्नलिखित रूप में प्राप्त होता है:

$$g(x, y, y', a) = 0 \quad \dots (2)$$

समीकरण (1) तथा (2) से  $a$  को विलुप्त करने पर हमें आवश्यक अवकल समीकरण निम्नलिखित रूप में प्राप्त होता है:

$$F(x, y, y') = 0 \quad \dots (3)$$

(b) यदि दिए हुए वक्रों का कुल  $F_2$  प्राचलों  $a$ , तथा  $b$  पर निर्भर करता है तो इसे निम्नलिखित रूप वाले समीकरण द्वारा निरूपित किया जाता है:

$$F_2(x, y, a, b) = 0 \quad \dots (4)$$

समीकरण (4) का  $x$  के सापेक्ष अवकलन करने पर हमें  $y', x, y, a, b$  को सम्मिलित करने वाला एक समीकरण निम्नलिखित रूप में प्राप्त होता है:


$$g(x, y, y', a, b) = 0 \quad \dots (5)$$

परंतु दो समीकरणों की सहायता से दो प्राचलों को विलुप्त करना सम्भव नहीं है इसलिए हमें एक तीसरे समीकरण की आवश्यकता है। यह समीकरण, समीकरण (5) का  $x$  के सापेक्ष अवकलन करने पर निम्नलिखित रूप में प्राप्त किया जाता है:

$$h(x, y, y', y'', a, b) = 0 \quad \dots (6)$$

समीकरण (4), (5) एवं (6) से  $a$  तथा  $b$  को विलुप्त करने पर हमें आवश्यक अवकल समीकरण निम्नलिखित रूप में प्राप्त होता है:

$$F(x, y, y', y'') = 0 \quad \dots (7)$$

 **टिप्पणी** किसी वक्र कुल को निरूपित करने वाले अवकल समीकरण की कोटि उतनी ही होती है जितने उस वक्र कुल के संगत समीकरण में स्वेच्छ अचर होते हैं।

**उदाहरण 4** वक्रों के कुल  $y = mx$  को निरूपित करने वाले अवकल समीकरण को ज्ञात कीजिए जबकि  $m$  एक स्वेच्छ अचर है।

**हल** दिया हुआ है कि

$$y = mx \quad \dots (1)$$

समीकरण (1) के दोनो पक्षों का  $x$  के सापेक्ष अवकलन करने पर हम प्राप्त करते हैं।

$$\frac{dy}{dx} = m$$

$m$  का मान समीकरण (1) में प्रतिस्थापित करने पर हमें  $y = \frac{dy}{dx} \cdot x$  अथवा  $x \frac{dy}{dx} - y = 0$  प्राप्त होता है। यह प्राचल  $m$  से मुक्त है और इसलिए यह अभीष्ट अवकल समीकरण है।

**उदाहरण 5** वक्रों के कुल  $y = a \sin(x + b)$ , जिसमें  $a, b$  स्वेच्छ अचर हैं, को निरूपित करने वाले अवकल समीकरण को ज्ञात कीजिए।

**हल** दिया हुआ है कि  $y = a \sin(x + b)$  ... (1)

समीकरण (1) के दोनों पक्षों का  $x$  के सापेक्ष उत्तरोत्तर अवकलन करने पर हम प्राप्त करते हैं:

$$\frac{dy}{dx} = a \cos(x + b) \quad \dots (2)$$

$$\frac{d^2y}{dx^2} = -a \sin(x + b) \quad \dots (3)$$

समीकरण (1), (2) तथा (3) से  $a$  तथा  $b$  को विलुप्त करने पर हम प्राप्त करते हैं।

$$\frac{d^2y}{dx^2} + y = 0 \quad \dots (4)$$

समीकरण (4) स्वेच्छ अचरों  $a$  तथा  $b$  से मुक्त है और इसलिए यह अभीष्ट अवकल समीकरण है।

**उदाहरण 6** ऐसे दीर्घवृत्तों के कुल को निरूपित करने वाला अवकल समीकरण ज्ञात कीजिए जिनकी नाभियाँ  $x$ -अक्ष पर हैं तथा जिनका केंद्र मूल बिंदु है।

**हल** हम जानते हैं कि कथित दीर्घवृत्तों के कुल का समीकरण निम्नलिखित प्रकार का होता है (आकृति 9.3 देखिए)

$$\frac{x^2}{a^2} + \frac{y^2}{b^2} = 1 \quad \dots (1)$$

समीकरण (1) का  $x$  के सापेक्ष अवकलन करने पर हमें  $X' \leftarrow$

$$\frac{2x}{a^2} + \frac{2y}{b^2} \frac{dy}{dx} = 0 \quad \text{प्राप्त होता है।}$$

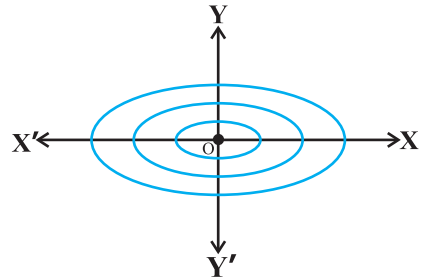
$$\text{अथवा } \frac{y}{x} \left( \frac{dy}{dx} \right) = \frac{-b^2}{a^2} \quad \dots (2)$$

समीकरण (2) के दोनों पक्षों का  $x$  के सापेक्ष अवकलन करने पर हमें प्राप्त होता है:

$$\left( \frac{y}{x} \right) \left( \frac{d^2y}{dx^2} \right) + \left( \frac{x \frac{dy}{dx} - y}{x^2} \right) \frac{dy}{dx} = 0$$

$$\text{अथवा } xy \frac{d^2y}{dx^2} + x \left( \frac{dy}{dx} \right)^2 - y \frac{dy}{dx} = 0 \quad \dots (3)$$

समीकरण (3) अभीष्ट अवकल समीकरण है।



आकृति 9.3

**उदाहरण 7**  $x$ -अक्ष को मूल बिंदु पर स्पर्श करने वाले वृत्तों के कुल का अवकल समीकरण ज्ञात कीजिए।

**हल** मान लीजिए,  $x$ -अक्ष को मूल बिंदु पर स्पर्श करने वाले वृत्तों के कुल को  $C$  से निर्दिष्ट किया जाता है।  $(0, a)$  उस कुल के किसी सदस्य के केंद्र बिंदु के निर्देशांक हैं (आकृति 9.4 देखिए)। इसलिए कुल  $C$  का समीकरण है:

$$x^2 + (y - a)^2 = a^2 \quad \text{अथवा} \quad x^2 + y^2 = 2ay \quad \dots (1)$$

जिसमें  $a$  एक स्वेच्छ अचर है। समीकरण (1) के दोनों पक्षों का  $x$  के सापेक्ष अवकलन करने पर प्राप्त करते हैं:

$$2x + 2y \frac{dy}{dx} = 2a \frac{dy}{dx}$$

अथवा 
$$x + y \frac{dy}{dx} = a \frac{dy}{dx}$$

अथवा 
$$a = \frac{x + y \frac{dy}{dx}}{\frac{dy}{dx}} \quad \dots (2)$$

समीकरण (2) से  $a$  का मान समीकरण (1) में रखने पर प्राप्त करते हैं:

$$x^2 + y^2 = 2y \frac{\left[ x + y \frac{dy}{dx} \right]}{\frac{dy}{dx}}$$

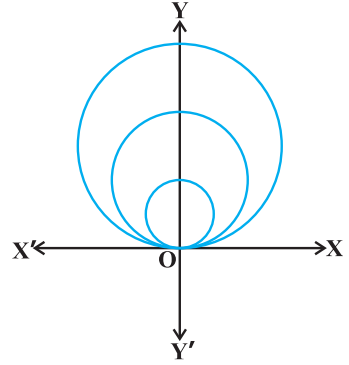
अथवा 
$$\frac{dy}{dx} (x^2 + y^2) = 2xy + 2y^2 \frac{dy}{dx}$$

अथवा 
$$\frac{dy}{dx} = \frac{2xy}{x^2 - y^2}$$

यह दिए हुए वृत्तों के कुल का अभीष्ट अवकल समीकरण है।

**उदाहरण 8** ऐसे परवलयों के कुल को निरूपित करने वाला अवकल समीकरण ज्ञात कीजिए जिनका शीर्ष मूल बिंदु पर है तथा जिनका अक्ष धनात्मक  $x$ -अक्ष की दिशा में है।

**हल** मान लीजिए कि उपरोक्त चर्चित परवलयों के कुल को  $P$  से निर्दिष्ट किया जाता है और उस कुल के किसी सदस्य की नाभि  $(a, 0)$  पर है जिसमें  $a$  एक धनात्मक स्वेच्छ अचर है



आकृति 9.4

(आकृति 9.5 देखिए)। इसलिए कुल P का समीकरण है:

$$y^2 = 4ax \quad \dots (1)$$

समीकरण (1) के दोनों पक्षों का  $x$  के सापेक्ष अवकलन करने पर हम पाते हैं:

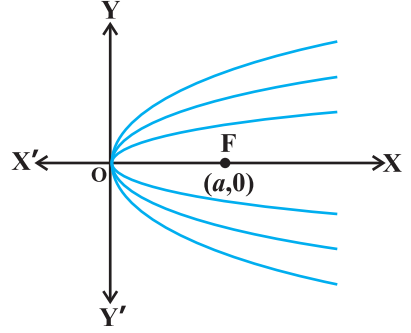
$$2y \frac{dy}{dx} = 4a \quad \dots (2)$$

समीकरण (2) से  $4a$  का मान समीकरण (1) में रखने पर हम पाते हैं:

$$y^2 = \left(2y \frac{dy}{dx}\right)(x)$$

$$\text{अथवा} \quad y^2 - 2xy \frac{dy}{dx} = 0 \quad \dots (3)$$

समीकरण (3) दिए हुए परवलयों के कुल का अवकल समीकरण है।



आकृति 9.5

### प्रश्नावली 9.3

1 से 5 तक प्रत्येक प्रश्न में, स्वेच्छ अचरों  $a$  तथा  $b$  को विलुप्त करते हुए दिए हुए वक्रों के कुल को निरूपित करने वाला अवकल समीकरण ज्ञात कीजिए।

1.  $\frac{x}{a} + \frac{y}{b} = 1$       2.  $y^2 = a(b^2 - x^2)$       3.  $y = a e^{3x} + b e^{-2x}$
4.  $y = e^{2x}(a + bx)$       5.  $y = e^x(a \cos x + b \sin x)$
6.  $y$ -अक्ष को मूल बिंदु पर स्पर्श करने वाले वृत्तों के कुल का अवकल समीकरण ज्ञात कीजिए।
7. ऐसे परवलयों के कुल का अवकल समीकरण निर्मित कीजिए जिनका शीर्ष मूल बिंदु पर है और जिनका अक्ष धनात्मक  $y$ -अक्ष की दिशा में है।
8. ऐसे दीर्घवृत्तों के कुल का अवकल समीकरण ज्ञात कीजिए जिनकी नाभियाँ  $y$ -अक्ष पर हैं तथा जिनका केंद्र मूल बिंदु है।
9. ऐसे अतिपरवलयों के कुल का अवकल समीकरण ज्ञात कीजिए जिनकी नाभियाँ  $x$ -अक्ष पर हैं तथा जिनका केंद्र मूल बिंदु है।
10. ऐसे वृत्तों के कुल का अवकल समीकरण ज्ञात कीजिए जिनका केंद्र  $y$ -अक्ष पर है और जिनकी त्रिज्या 3 इकाई है।
11. निम्नलिखित अवकल समीकरणों में से किस समीकरण का व्यापक हल  $y = c_1 e^x + c_2 e^{-x}$  है?

(A)  $\frac{d^2y}{dx^2} + y = 0$  (B)  $\frac{d^2y}{dx^2} - y = 0$  (C)  $\frac{d^2y}{dx^2} + 1 = 0$  (D)  $\frac{d^2y}{dx^2} - 1 = 0$

12. निम्नलिखित समीकरणों में से किस समीकरण का एक विशिष्ट हल  $y = x$  है?

(A)  $\frac{d^2y}{dx^2} - x^2 \frac{dy}{dx} + xy = x$

(B)  $\frac{d^2y}{dx^2} + x \frac{dy}{dx} + xy = x$

(C)  $\frac{d^2y}{dx^2} - x^2 \frac{dy}{dx} + xy = 0$

(D)  $\frac{d^2y}{dx^2} + x \frac{dy}{dx} + xy = 0$

### 9.5. प्रथम कोटि एवं प्रथम घात के अवकल समीकरणों को हल करने की विधियाँ (Methods of Solving First order, First Degree Differential Equations)

इस परिच्छेद में हम प्रथम कोटि एवं प्रथम घात के अवकल समीकरणों को हल करने की तीन विधियों की चर्चा करेंगे।

#### 9.5.1 पृथक्करणीय चर वाले अवकल समीकरण (Differential equations with variables separable)

प्रथम कोटि एवं प्रथम घात का अवकल समीकरण निम्नलिखित रूप का होता है:

$$\frac{dy}{dx} = F(x, y) \quad \dots (1)$$

यदि  $F(x, y)$  को गुणनफल  $g(x), h(y)$  के रूप में अभिव्यक्त किया जा सकता है जहाँ  $g(x), x$  का फलन है और  $h(y), y$  का एक फलन है तो समीकरण (1) पृथक्करणीय चर वाला समीकरण कहलाता है। ऐसा होने पर समीकरण (1) को निम्नलिखित रूप में लिखा जा सकता है:

$$\frac{dy}{dx} = h(y) \cdot g(x) \quad \dots (2)$$

यदि  $h(y) \neq 0$ , तो चरों को पृथक् करते हुए समीकरण (2) को

$$\frac{1}{h(y)} dy = g(x) dx \quad \dots (3)$$

के रूप में लिखा जा सकता है। समीकरण (3) के दोनों पक्षों का समाकलन करने पर हम प्राप्त करते हैं:

$$\int \frac{1}{h(y)} dy = \int g(x) dx \quad \dots (4)$$

इस प्रकार समीकरण (4), दिए हुए अवकल समीकरण का हल निम्नलिखित रूप में प्रदान करता है:

$$H(y) = G(x) + C \quad \dots (5)$$

यहाँ  $H(y)$  एवं  $G(x)$  क्रमशः  $\frac{1}{h(y)}$  एवं  $g(x)$  के प्रतिअवकलज हैं और  $C$  स्वेच्छ अचर है।

12. निम्नलिखित समीकरणों में से किस समीकरण का एक विशिष्ट हल  $y = x$  है?

(A)  $\frac{d^2y}{dx^2} - x^2 \frac{dy}{dx} + xy = x$

(B)  $\frac{d^2y}{dx^2} + x \frac{dy}{dx} + xy = x$

(C)  $\frac{d^2y}{dx^2} - x^2 \frac{dy}{dx} + xy = 0$

(D)  $\frac{d^2y}{dx^2} + x \frac{dy}{dx} + xy = 0$

### 9.5. प्रथम कोटि एवं प्रथम घात के अवकल समीकरणों को हल करने की विधियाँ (Methods of Solving First order, First Degree Differential Equations)

इस परिच्छेद में हम प्रथम कोटि एवं प्रथम घात के अवकल समीकरणों को हल करने की तीन विधियों की चर्चा करेंगे।

#### 9.5.1 पृथक्करणीय चर वाले अवकल समीकरण (Differential equations with variables separable)

प्रथम कोटि एवं प्रथम घात का अवकल समीकरण निम्नलिखित रूप का होता है:

$$\frac{dy}{dx} = F(x, y) \quad \dots (1)$$

यदि  $F(x, y)$  को गुणनफल  $g(x), h(y)$  के रूप में अभिव्यक्त किया जा सकता है जहाँ  $g(x), x$  का फलन है और  $h(y), y$  का एक फलन है तो समीकरण (1) पृथक्करणीय चर वाला समीकरण कहलाता है। ऐसा होने पर समीकरण (1) को निम्नलिखित रूप में लिखा जा सकता है:

$$\frac{dy}{dx} = h(y) \cdot g(x) \quad \dots (2)$$

यदि  $h(y) \neq 0$ , तो चरों को पृथक् करते हुए समीकरण (2) को

$$\frac{1}{h(y)} dy = g(x) dx \quad \dots (3)$$

के रूप में लिखा जा सकता है। समीकरण (3) के दोनों पक्षों का समाकलन करने पर हम प्राप्त करते हैं:

$$\frac{1}{h(y)} dy = g(x) dx \quad \dots (4)$$

इस प्रकार समीकरण (4), दिए हुए अवकल समीकरण का हल निम्नलिखित रूप में प्रदान करता है:

$$H(y) = G(x) + C \quad \dots (5)$$

यहाँ  $H(y)$  एवं  $G(x)$  क्रमशः  $\frac{1}{h(y)}$  एवं  $g(x)$  के प्रतिअवकलज हैं और  $C$  स्वेच्छ अचर है।

**उदाहरण 9** अवकल समीकरण  $\frac{dy}{dx} = \frac{x+1}{2-y}$ , ( $y \neq 2$ ) का व्यापक हल ज्ञात कीजिए।

**हल** दिया गया है कि

$$\frac{dy}{dx} = \frac{x+1}{2-y} \quad (y \neq 2) \quad \dots (1)$$

समीकरण (1) में चरों को पृथक् करने पर हम प्राप्त करते हैं:

$$(2-y) dy = (x+1) dx \quad \dots (2)$$

समीकरण (2) के दोनों पक्षों का समाकलन करने पर हम प्राप्त करते हैं:

$$\int (2-y) dy = \int (x+1) dx$$

अथवा  $2y - \frac{y^2}{2} = \frac{x^2}{2} + x + C_1$

अथवा  $x^2 + y^2 + 2x - 4y + 2C_1 = 0$

अथवा  $x^2 + y^2 + 2x - 4y + C = 0 \quad \dots (3)$

जहाँ  $C = 2C_1$

समीकरण (3) अवकल समीकरण (1) का व्यापक हल है।

**उदाहरण 10** अवकल समीकरण  $\frac{dy}{dx} = \frac{1+y^2}{1+x^2}$  का व्यापक हल ज्ञात कीजिए।

**हल** चूँकि  $1+y^2 \neq 0$ , इसलिए चरों को पृथक् करते हुए दिया हुआ अवकल समीकरण निम्नलिखित रूप में लिखा जा सकता है:

$$\frac{dy}{1+y^2} = \frac{dx}{1+x^2} \quad \dots (1)$$

समीकरण (1) के दोनों पक्षों का समाकलन करते हुए हम पाते हैं:

$$\int \frac{dy}{1+y^2} = \int \frac{dx}{1+x^2}$$

अथवा  $\tan^{-1} y = \tan^{-1} x + C$

यह समीकरण (1) का व्यापक हल है।

**उदाहरण 11** अवकल समीकरण  $\frac{dy}{dx} = -4xy^2$  का विशिष्ट हल ज्ञात कीजिए, यदि  $y = 1$  जब  $x = 0$  हो

**हल** यदि  $y \neq 0$ , दिया हुआ अवकल समीकरण निम्नलिखित रूप में लिखा जा सकता है:

$$\frac{dy}{y^2} = -4x dx \quad \dots (1)$$



समीकरण (1) के दोनों पक्षों का समाकलन करने पर हम पाते हैं:

$$\int \frac{dy}{y^2} = -4 \int x dx$$

अथवा 
$$-\frac{1}{y} = -2x^2 + C$$

अथवा 
$$y = \frac{1}{2x^2 - C} \quad \dots (2)$$

समीकरण (2) में  $y = 1$  और  $x = 0$  प्रतिस्थापित करने पर हमें  $C = -1$  प्राप्त होता है।

$C$  का मान समीकरण (2) में प्रतिस्थापित करने पर दिए हुए अवकल समीकरण का विशिष्ट हल

$$y = \frac{1}{2x^2 + 1}$$

प्राप्त होता है।

**उदाहरण 12** बिंदु  $(1, 1)$  से गुजरने वाले एक ऐसे वक्र का समीकरण कीजिए जिसका अवकल समीकरण  $x \cdot dy = (2x^2 + 1) \cdot dx$  ( $x \neq 0$ ) है।

**हल** दिए हुए अवकल समीकरण को निम्नलिखित रूप में अभिव्यक्त किया जा सकता है:

$$dy = \left( \frac{2x^2 + 1}{x} \right) dx$$

अथवा 
$$dy = \left( 2x + \frac{1}{x} \right) dx \quad \dots (1)$$

समीकरण (1) के दोनों पक्षों का समाकलन करने पर हम प्राप्त करते हैं:

$$\int dy = \int \left( 2x + \frac{1}{x} \right) dx$$

अथवा 
$$y = x^2 + \log|x| + C \quad \dots (2)$$

समीकरण (2) दिए हुए अवकल समीकरण के हल वक्रों के कुल को निरूपित करता है परंतु हम इस कुल के एक ऐसे विशिष्ट सदस्य का समीकरण ज्ञात करना चाहते हैं जो बिंदु  $(1, 1)$  से गुजरता हो।

---

\* लैबनीज द्वारा प्रदत्त संकेत  $\frac{dy}{dx}$  अत्यंत लचीला है, तथा बहुत सी गणना एवं औपचारिक रूपांतरणों में प्रयुक्त होता है, जहाँ हम  $dx$  और  $dy$  को साधारण संख्याओं की तरह व्यवहार में लाते हैं।  $dx$  और  $dy$  को पृथक्-पृथक् सत्ता मानकर हम बहुत सी गणनाओं की सुस्पष्ट व्याख्या कर सकते हैं। संदर्भ: Introduction to calculus and Analysis, volume-I page 172, By Richard Courant, Fritz John Spinger — Verlog New York.

इसलिए समीकरण (2) में  $x = 1, y = 1$  प्रतिस्थापित करने पर हमें  $C = 0$  प्राप्त होता है।  $C$  का मान समीकरण (2) में प्रतिस्थापित करने पर हमें अभीष्ट वक्र का समीकरण  $y = x^2 + \log|x|$  के रूप में प्राप्त होता है।

**उदाहरण 13** बिंदु  $(-2, 3)$ , से गुजरने वाले ऐसे वक्र का समीकरण ज्ञात कीजिए जिसके किसी बिंदु  $(x, y)$  पर स्पर्श रेखा की प्रवणता  $\frac{2x}{y^2}$  है।

**हल** हम जानते हैं कि किसी वक्र की स्पर्श रेखा की प्रवणता  $\frac{dy}{dx}$  के बराबर होती है। इसलिए

$$\frac{dy}{dx} = \frac{2x}{y^2} \quad \dots (1)$$

चरों को पृथक् करते हुए समीकरण (1) को निम्नलिखित रूप में लिखा जा सकता है :

$$y^2 dy = 2x dx \quad \dots (2)$$

समीकरण (2) के दोनों पक्षों का समाकलन करने पर हम प्राप्त करते हैं :

$$\int y^2 dy = \int 2x dx$$

$$\text{अथवा} \quad \frac{y^3}{3} = x^2 + C \quad \dots (3)$$

समीकरण (3) में  $x = -2, y = 3$  प्रतिस्थापित करने पर हमें  $C = 5$  प्राप्त होता है।

$C$  का मान समीकरण (3) में प्रतिस्थापित करने पर हमें अभीष्ट वक्र का समीकरण

$$\frac{y^3}{3} = x^2 + 5 \quad \text{अथवा} \quad y = (3x^2 + 15)^{\frac{1}{3}}$$

के रूप में प्राप्त होता है।

**उदाहरण 14** किसी बैंक में मूलधन की वृद्धि 5% वार्षिक की दर से होती है। कितने वर्षों में Rs 1000 की राशि दुगुनी हो जाएगी?

**हल** मान लीजिए किसी समय  $t$  पर मूलधन  $P$  है। दी हुई समस्या के अनुसार

$$\frac{dP}{dt} = \left(\frac{5}{100}\right) \times P$$

$$\text{अथवा} \quad \frac{dP}{dt} = \frac{P}{20} \quad \dots (1)$$

समीकरण (1) में चरों को पृथक् करने पर, हम प्राप्त करते हैं :

$$\frac{dP}{P} = \frac{dt}{20} \quad \dots (2)$$

समीकरण (2) के दोनों पक्षों का समाकलन करने पर हम प्राप्त करते हैं :

$$\log P = \frac{t}{20} + C_1$$

अथवा  $P = e^{\frac{t}{20}} \cdot e^{C_1}$

अथवा  $P = C e^{\frac{t}{20}}$  (जहाँ  $e^{C_1} = C$ ) ... (3)

अब  $P = 1000$ , जब  $t = 0$

P और t का मान समीकरण (3) में रखने पर हम  $C = 1000$  प्राप्त करते हैं।

इसलिए समीकरण (3) से हम प्राप्त करते हैं :

$$P = 1000 e^{\frac{t}{20}}$$

मान लीजिए t वर्षों में मूलधन दुगुना हो जाता है, तब

$$2000 = 1000 e^{\frac{t}{20}} \Rightarrow t = 20 \log_e 2$$

#### प्रश्नावली 9.4

1 से 10 तक के प्रश्नों में, प्रत्येक अवकल समीकरण का व्यापक हल ज्ञात कीजिए।

1.  $\frac{dy}{dx} = \frac{1 - \cos x}{1 + \cos x}$

2.  $\frac{dy}{dx} = \sqrt{4 - y^2}$  ( $-2 < y < 2$ )

3.  $\frac{dy}{dx} + y = 1$  ( $y \neq 1$ )

4.  $\sec^2 x \tan y \, dx + \sec^2 y \tan x \, dy = 0$

5.  $(e^x + e^{-x}) \, dy - (e^x - e^{-x}) \, dx = 0$

6.  $\frac{dy}{dx} = (1 + x^2)(1 + y^2)$

7.  $y \log y \, dx - x \, dy = 0$

8.  $x^5 \frac{dy}{dx} = -y^5$

9.  $\frac{dy}{dx} = \sin^{-1} x$

10.  $e^x \tan y \, dx + (1 - e^x) \sec^2 y \, dy = 0$

11 से 14 तक के प्रश्नों में, प्रत्येक अवकल समीकरण के लिए दिए हुए प्रतिबंध को संतुष्ट करने वाला विशिष्ट हल ज्ञात कीजिए।

11.  $(x^3 + x^2 + x + 1) \frac{dy}{dx} = 2x^2 + x$ ;  $y = 1$  यदि  $x = 0$

12.  $x(x^2 - 1) \frac{dy}{dx} = 1$ ;  $y = 0$  यदि  $x = 2$
13.  $\cos\left(\frac{dy}{dx}\right) = a$  ( $a \in \mathbb{R}$ );  $y = 1$  यदि  $x = 0$
14.  $\frac{dy}{dx} = y \tan x$ ;  $y = 2$  यदि  $x = 0$
15. बिंदु  $(0, 0)$  से गुजरने वाले एक ऐसे वक्र का समीकरण ज्ञात कीजिए जिसका अवकल समीकरण  $y' = e^x \sin x$  है।
16. अवकल समीकरण  $xy \frac{dy}{dx} = (x+2)(y+2)$  के लिए बिंदु  $(1, -1)$  से गुजरने वाला वक्र ज्ञात कीजिए।
17. बिंदु  $(0, -2)$  से गुजरने वाले एक ऐसे वक्र का समीकरण ज्ञात कीजिए जिसके किसी बिंदु  $(x, y)$  पर स्पर्श रेखा की प्रवणता और उस बिंदु के  $y$  निर्देशांक का गुणनफल उस बिंदु के  $x$  निर्देशांक के बराबर है।
18. एक वक्र के किसी बिंदु  $(x, y)$  पर स्पर्श रेखा की प्रवणता, स्पर्श बिंदु को, बिंदु  $(-4, -3)$  से मिलाने वाले रेखाखंड की प्रवणता की दुगुनी है। यदि यह वक्र बिंदु  $(-2, 1)$  से गुजरता हो तो इस वक्र का समीकरण ज्ञात कीजिए।
19. एक गोलाकार गुब्बारे का आयतन, जिसे हवा भरकर फुलाया जा रहा है, स्थिर गति से बदल रहा है यदि आरंभ में इस गुब्बारे की त्रिज्या 3 ईकाई है और 3 सेकेंड बाद 6 ईकाई है, तो  $t$  सेकेंड बाद उस गुब्बारे की त्रिज्या ज्ञात कीजिए।
20. किसी बैंक में मूलधन की वृद्धि  $r\%$  वार्षिक की दर से होती है। यदि 100 रुपये 10 वर्षों में दुगुने हो जाते हैं, तो  $r$  का मान ज्ञात कीजिए। ( $\log_e 2 = 0.6931$ )।
21. किसी बैंक में मूलधन की वृद्धि  $5\%$  वार्षिक की दर से होती है। इस बैंक में Rs 1000 जमा कराए जाते हैं। ज्ञात कीजिए कि 10 वर्ष बाद यह राशि कितनी हो जाएगी? ( $e^{0.5} = 1.648$ )
22. किसी जीवाणु समूह में जीवाणुओं की संख्या 1,00,000 है। 2 घंटों में इनकी संख्या में  $10\%$  की वृद्धि होती है। कितने घंटों में जीवाणुओं की संख्या 2,00,000 हो जाएगी, यदि जीवाणुओं के वृद्धि की दर उनके उपस्थित संख्या के समानुपाती है।
23. अवकल समीकरण  $\frac{dy}{dx} = e^{x+y}$  का व्यापक हल है:
- (A)  $e^x + e^{-y} = C$  (B)  $e^x + e^y = C$   
 (C)  $e^{-x} + e^y = C$  (D)  $e^{-x} + e^{-y} = C$

### 9.5.2 समघातीय अवकल समीकरण (Homogenous differential equations)

$x$  एवं  $y$  के निम्नलिखित फलनों पर विचार कीजिए

$$F_1(x, y) = y^2 + 2xy, \quad F_2(x, y) = 2x - 3y,$$

$$F_3(x, y) = \cos\left(\frac{y}{x}\right), \quad F_4(x, y) = \sin x + \cos y$$

यदि उपरोक्त फलनों में  $x$  और  $y$  को किसी शून्येतर अचर  $\lambda$  के लिए क्रमशः  $\lambda x$  एवं  $\lambda y$  से प्रतिस्थापित कर दिया जाए तो हम प्राप्त करते हैं:

$$F_1(\lambda x, \lambda y) = \lambda^2 (y^2 + 2xy) = \lambda^2 F_1(x, y)$$

$$F_2(\lambda x, \lambda y) = \lambda (2x - 3y) = \lambda F_2(x, y)$$

$$F_3(\lambda x, \lambda y) = \cos\left(\frac{\lambda y}{\lambda x}\right) = \cos\left(\frac{y}{x}\right) = \lambda^0 F_3(x, y)$$

$$F_4(\lambda x, \lambda y) = \sin \lambda x + \cos \lambda y \neq \lambda^n F_4(x, y), \text{ किसी भी } n \text{ के लिए}$$

यहाँ हम प्रेक्षित करते हैं कि फलनों  $F_1, F_2, F_3$  को  $F(\lambda x, \lambda y) = \lambda^n F(x, y)$  के रूप में लिखा जा सकता है परंतु फलन  $F_4$  को इस रूप में नहीं लिखा जा सकता है। इससे हम निम्नलिखित परिभाषा प्राप्त करते हैं।

फलन  $F(x, y)$ ,  $n$  घात वाला समघातीय फलन कहलाता है। यदि किसी शून्येतर अचर  $\lambda$  के लिए  $F(\lambda x, \lambda y) = \lambda^n F(x, y)$

हम नोट करते हैं कि उपरोक्त उदाहरणों में  $F_1, F_2, F_3$  क्रमशः 2, 1, 0 घात वाले समघातीय फलन हैं जबकि  $F_4$  समघातीय फलन नहीं है।

हम यह भी प्रेक्षित करते हैं कि

$$F_1(x, y) = x^2 \left( \frac{y^2}{x^2} + \frac{2y}{x} \right) = x^2 h_1 \left( \frac{y}{x} \right)$$

अथवा 
$$F_1(x, y) = y^2 \left( 1 + \frac{2x}{y} \right) = y^2 h_2 \left( \frac{x}{y} \right),$$

$$F_2(x, y) = x^1 \left( 2 - \frac{3y}{x} \right) = x^1 h_3 \left( \frac{y}{x} \right)$$

अथवा 
$$F_2(x, y) = y^1 \left( 2 \frac{x}{y} - 3 \right) = y^1 h_4 \left( \frac{x}{y} \right),$$

$$F_3(x, y) = x^0 \cos \left( \frac{y}{x} \right) = x^0 h_5 \left( \frac{y}{x} \right)$$

$$F_4(x, y) \neq x^n h_6\left(\frac{y}{x}\right), n \in \mathbf{N} \text{ के किसी भी मान के लिए}$$

अथवा

$$F_4(x, y) \neq y^n h_7\left(\frac{x}{y}\right), n \in \mathbf{N}$$

इसलिए एक फलन  $F(x, y)$ ,  $n$  घात वाला समघातीय फलन कहलाता है यदि

$$F(x, y) = x^n g\left(\frac{y}{x}\right) \quad \text{अथवा} \quad y^n h\left(\frac{x}{y}\right)$$

$\frac{dy}{dx} = F(x, y)$  के रूप वाला अवकल समीकरण समघातीय कहलाता है यदि  $F(x, y)$  शून्य घात वाला समघातीय फलन है।

$$\frac{dy}{dx} = F(x, y) = g\left(\frac{y}{x}\right) \quad \dots (1)$$

के रूप वाले समघातीय अवकल समीकरण को हल करने के लिए हम  $\frac{y}{x} = v$  अर्थात्

$$y = v x \quad \dots (2)$$

प्रतिस्थापित करते हैं

समीकरण (2) का  $x$  के सापेक्ष अवकलन करने पर हम प्राप्त करते हैं :

$$\frac{dy}{dx} = v + x \frac{dv}{dx} \quad \dots (3)$$

समीकरण (3) से  $\frac{dy}{dx}$  का मान समीकरण (1) में प्रतिस्थापित करने पर हम प्राप्त करते हैं :

$$v + x \frac{dv}{dx} = g(v)$$

अर्थात्

$$x \frac{dv}{dx} = g(v) - v \quad \dots (4)$$

समीकरण (4) में चरों को पृथक् करने पर हम प्राप्त करते हैं :

$$\frac{dv}{g(v) - v} = \frac{dx}{x} \quad \dots (5)$$

समीकरण (5) के दोनों पक्षों का समाकलन करने पर हमें प्राप्त होता है :

$$\int \frac{dv}{g(v) - v} = \int \frac{1}{x} dx + C \quad \dots (6)$$

यदि  $v$  को  $\frac{y}{x}$  से प्रतिस्थापित कर दिया जाए तो समीकरण (6), अवकल समीकरण (1) का व्यापक हल प्रदान करता है।

**टिप्पणी** यदि समघातीय अवकल समीकरण  $\frac{dx}{dy} = F(x, y)$  के रूप में है। जहाँ  $F(x, y)$  शून्य घात वाला समघातीय फलन है तो हम  $\frac{x}{y} = v$  अर्थात्,  $x = vy$  प्रतिस्थापित करते हैं और फिर उपरोक्त चर्चा के अनुसार  $\frac{dx}{dy} = F(x, y) = h\left(\frac{x}{y}\right)$  के रूप में लिखकर व्यापक हल ज्ञात करने के लिए आगे बढ़ते हैं।

**उदाहरण 15** दर्शाइए कि अवकल समीकरण  $(x - y) \frac{dy}{dx} = x + 2y$  समघातीय है और इसका हल ज्ञात कीजिए।

**हल** दिए गए अवकल समीकरण को निम्नलिखित रूप में अभिव्यक्त किया जा सकता है :

$$\frac{dy}{dx} = \frac{x + 2y}{x - y} \quad \dots (1)$$

मान लीजिए  $F(x, y) = \frac{x + 2y}{x - y}$

अब  $F(\lambda x, \lambda y) = \frac{\lambda(x + 2y)}{\lambda(x - y)} = \lambda \cdot F(x, y)$

इसलिए  $F(x, y)$  शून्य घात वाला समघातीय फलन है।

अतः दिया हुआ अवकल समीकरण एक समघातीय अवकल समीकरण है।

**विकल्पतः**

$$\frac{dy}{dx} = \left( \frac{1 + \frac{2y}{x}}{1 - \frac{y}{x}} \right) = g\left(\frac{y}{x}\right) \quad \dots (2)$$

समीकरण (2) का दायँ पक्ष  $g\left(\frac{y}{x}\right)$  के रूप में है इसलिए यह शून्य घात वाला एक समघातीय फलन है। इसलिए समीकरण (1) एक समघातीय अवकल समीकरण है।

इसको हल करने के लिए हम प्रतिस्थापन करते हैं:

$$y = vx \quad \dots (3)$$

समीकरण (3) का  $x$  के सापेक्ष अवकलन करने पर हम प्राप्त करते हैं :

$$\frac{dy}{dx} = v + x \frac{dv}{dx} \quad \dots (4)$$

समीकरण (1) में  $y$  एवं  $\frac{dy}{dx}$  का मान प्रतिस्थापित करने पर हम प्राप्त करते हैं :

$$v + x \frac{dv}{dx} = \frac{1+2v}{1-v}$$

अर्थात्  $x \frac{dv}{dx} = \frac{1+2v}{1-v} - v$

अर्थात्  $x \frac{dv}{dx} = \frac{v^2 + v + 1}{1-v}$

अर्थात्  $\frac{v-1}{v^2 + v + 1} dv = \frac{-dx}{x} \quad \dots (5)$

समीकरण (5) के दोनों पक्षों का समाकलन करने पर हम प्राप्त करते हैं :

$$\int \frac{v-1}{v^2 + v + 1} dv = - \int \frac{dx}{x}$$

अथवा  $\frac{1}{2} \int \frac{2v+1-3}{v^2 + v + 1} dv = -\log|x| + C$

अथवा  $\frac{1}{2} \int \frac{2v+1}{v^2 + v + 1} dv - \frac{3}{2} \int \frac{1}{v^2 + v + 1} dv = -\log|x| + C$

अथवा  $\frac{1}{2} \log|v^2 + v + 1| - \frac{3}{2} \int \frac{1}{v^2 + v + 1} dv = -\log|x| + C$

अथवा  $\frac{1}{2} \log|v^2 + v + 1| - \frac{3}{2} \int \frac{1}{\left(v + \frac{1}{2}\right)^2 + \left(\frac{\sqrt{3}}{2}\right)^2} dv = -\log|x| + C$

अथवा  $\frac{1}{2} \log|v^2 + v + 1| - \frac{3}{2} \cdot \frac{2}{\sqrt{3}} \tan^{-1}\left(\frac{2v+1}{\sqrt{3}}\right) = -\log|x| + C$



$$\text{अथवा} \quad \frac{1}{2} \log |v^2 + v + 1| + \frac{1}{2} \log x^2 = \sqrt{3} \tan^{-1} \left( \frac{2v+1}{\sqrt{3}} \right) + C$$

$v$  को  $\frac{y}{x}$ , से प्रतिस्थापित करने पर हम प्राप्त करते हैं :

$$\text{अथवा} \quad \frac{1}{2} \log \left| \frac{y^2}{x^2} + \frac{y}{x} + 1 \right| + \frac{1}{2} \log x^2 = \sqrt{3} \tan^{-1} \left( \frac{2y+x}{\sqrt{3}x} \right) + C$$

$$\text{अथवा} \quad \frac{1}{2} \log \left| \left( \frac{y^2}{x^2} + \frac{y}{x} + 1 \right) x^2 \right| = \sqrt{3} \tan^{-1} \left( \frac{2y+x}{\sqrt{3}x} \right) + C_1$$

$$\text{अथवा} \quad \log |(y^2 + xy + x^2)| = 2\sqrt{3} \tan^{-1} \left( \frac{2y+x}{\sqrt{3}x} \right) + 2C_1$$

$$\text{अथवा} \quad \log |(x^2 + xy + y^2)| = 2\sqrt{3} \tan^{-1} \left( \frac{x+2y}{\sqrt{3}x} \right) + C$$

यह अवकल समीकरण (1) का व्यापक हल है।

**उदाहरण 16** दर्शाइए कि अवकल समीकरण  $x \cos\left(\frac{y}{x}\right) \frac{dy}{dx} = y \cos\left(\frac{y}{x}\right) + x$  समघातीय है और

इसका हल ज्ञात कीजिए।

**हल** दिया हुआ अवकल समीकरण निम्नलिखित रूप में लिखा जा सकता है :

$$\frac{dy}{dx} = \frac{y \cos\left(\frac{y}{x}\right) + x}{x \cos\left(\frac{y}{x}\right)} \quad \dots (1)$$

यहाँ  $\frac{dy}{dx} = F(x, y)$  के रूप का अवकल समीकरण है।

$$\text{यहाँ } F(x, y) = \frac{y \cos\left(\frac{y}{x}\right) + x}{x \cos\left(\frac{y}{x}\right)} \text{ है।}$$

$x$  को  $\lambda x$  से एवं  $y$  को  $\lambda y$  से प्रतिस्थापित करने पर हम प्राप्त करते हैं:

$$F(\lambda x, \lambda y) = \frac{\lambda \left[ y \cos\left(\frac{y}{x}\right) + x \right]}{\lambda \left( x \cos\frac{y}{x} \right)} = \lambda^0 [F(x, y)]$$

$F(x, y)$  शून्य घात वाला समघातीय फलन है, इसलिए दिया हुआ अवकल समीकरण एक समघातीय अवकल समीकरण है। इसको हल करने के लिए हम प्रतिस्थापन करते हैं:

$$y = vx \quad \dots (2)$$

समीकरण (2) का  $x$  के सापेक्ष अवकलन करने पर हम प्राप्त करते हैं:

$$\frac{dy}{dx} = v + x \frac{dv}{dx} \quad \dots (3)$$

समीकरण (1) में  $y$  एवं  $\frac{dy}{dx}$  का मान प्रतिस्थापित करने पर हम प्राप्त करते हैं:

$$v + x \frac{dv}{dx} = \frac{v \cos v + 1}{\cos v}$$

अथवा 
$$x \frac{dv}{dx} = \frac{v \cos v + 1}{\cos v} - v$$

अथवा 
$$x \frac{dv}{dx} = \frac{1}{\cos v}$$

अथवा 
$$\cos v \, dv = \frac{dx}{x}$$

इसलिए 
$$\int \cos v \, dv = \int \frac{1}{x} \, dx$$

अथवा 
$$\sin v = \log |x| + \log |C|$$

अथवा 
$$\sin v = \log |Cx|$$

$v$  को  $\frac{y}{x}$  प्रतिस्थापित करने पर हम प्राप्त करते हैं।

$$\sin\left(\frac{y}{x}\right) = \log |Cx|$$

यह अवकल समीकरण (1) का व्यापक हल है।

**उदाहरण 17** दर्शाइए कि अवकल समीकरण  $2y e^{\frac{x}{y}} dx + (y - 2x e^{\frac{x}{y}}) dy = 0$  समघातीय है और यदि,  $x = 0$  जब  $y = 1$  दिया हुआ हो तो इस समीकरण का विशिष्ट हल ज्ञात कीजिए।

**हल** दिया हुआ अवकल समीकरण निम्नलिखित रूप में लिखा जा सकता है:

$$\frac{dx}{dy} = \frac{2x e^{\frac{x}{y}} - y}{2y e^{\frac{x}{y}}} \quad \dots (1)$$

मान लीजिए  $F(x, y) = \frac{2x e^{\frac{x}{y}} - y}{2y e^{\frac{x}{y}}}$  तब  $F(\lambda x, \lambda y) = \frac{\lambda \left( 2x e^{\frac{x}{y}} - y \right)}{\lambda \left( 2y e^{\frac{x}{y}} \right)} = \lambda^0 [F(x, y)]$

अतः  $F(x, y)$  शून्य घात वाला समघातीय फलन है।

इसलिए, दिया हुआ अवकल समीकरण एक समघातीय अवकल समीकरण है।

इसका हल ज्ञात करने के लिए, हम  $x = vy$  प्रतिस्थापन करते हैं।

समीकरण (2) का  $y$  के सापेक्ष अवकलन करने पर हम प्राप्त करते हैं:

$$\frac{dx}{dy} = v + y \frac{dv}{dy}$$

समीकरण (1) में  $x$  एवं  $\frac{dx}{dy}$  का मान प्रतिस्थापित करने पर हम प्राप्त करते हैं:

$$v + y \frac{dv}{dy} = \frac{2v e^v - 1}{2e^v}$$

अथवा  $y \frac{dv}{dy} = \frac{2v e^v - 1}{2e^v} - v$

अथवा  $y \frac{dv}{dy} = -\frac{1}{2e^v}$

अथवा  $2e^v dv = \frac{-dy}{y}$

$$\text{अथवा} \quad \int 2e^v \cdot dv = -\int \frac{dy}{y}$$

$$\text{अथवा} \quad 2e^v = -\log |y| + C$$

$v$  को  $\frac{x}{y}$  से प्रतिस्थापित करने पर हम प्राप्त करते हैं:

$$2e^{\frac{x}{y}} + \log |y| = C \quad \dots (3)$$

समीकरण (3) में,  $x = 0$  एवं  $y = 1$  प्रतिस्थापित करने पर हम प्राप्त करते हैं:

$$2e^0 + \log |1| = C \Rightarrow C = 2$$

$C$  का मान समीकरण (3) में प्रतिस्थापित करने पर हम प्राप्त करते हैं:

$$2e^{\frac{x}{y}} + \log |y| = 2$$

यह दिए हुए अवकल समीकरण का एक विशिष्ट हल है।

**उदाहरण 18** दर्शाइए कि वक्रों का कुल, जिनके किसी बिंदु  $(x, y)$  पर स्पर्श रेखा की प्रवणता

$$\frac{x^2 + y^2}{2xy} \text{ है, } x^2 - y^2 = cx \text{ द्वारा प्रदत्त है।}$$

**हल** हम जानते हैं कि एक वक्र के किसी बिंदु पर स्पर्श रेखा की प्रवणता  $\frac{dy}{dx}$  के बराबर होती है।

$$\text{इसलिए} \quad \frac{dy}{dx} = \frac{x^2 + y^2}{2xy} \text{ या } \frac{dy}{dx} = \frac{1 + \frac{y^2}{x^2}}{\frac{2y}{x}} \quad \dots (1)$$

स्पष्टतः समीकरण (1) समघातीय अवकल समीकरण है।

इसको हल करने के लिए हम  $y = vx$  प्रतिस्थापन करते हैं।

$y = vx$  का  $x$  के सापेक्ष अवकलन करने पर हम पाते हैं:

$$\frac{dy}{dx} = v + x \frac{dv}{dx} \text{ या } v + x \frac{dv}{dx} = \frac{1 + v^2}{2v}$$

$$\text{अतः} \quad x \frac{dv}{dx} = \frac{1 - v^2}{2v} \text{ या } \frac{2v}{1 - v^2} dv = \frac{dx}{x} \text{ या } \frac{2v}{v^2 - 1} dv = -\frac{dx}{x}$$

इसलिए 
$$\int \frac{2v}{v^2-1} dv = -\int \frac{1}{x} dx$$

अथवा 
$$\log|v^2-1| = -\log|x| + \log|C_1|$$

अथवा 
$$\log|(v^2-1)(x)| = \log|C_1|$$

अथवा 
$$(v^2-1)x = \pm C_1$$

$v$  को  $\frac{y}{x}$  से प्रतिस्थापित करने पर हम प्राप्त करते हैं:

$$\left(\frac{y^2}{x^2}-1\right)x = \pm C_1$$

अथवा 
$$(y^2-x^2) = \pm C_1 x \text{ या } x^2-y^2 = Cx$$

### प्रश्नावली 9.5

1 से 10 तक के प्रत्येक प्रश्न में दर्शाए कि दिया हुआ अवकल समीकरण समघातीय है और इनमें से प्रत्येक को हल कीजिए:

1.  $(x^2 + xy) dy = (x^2 + y^2) dx$
2.  $y' = \frac{x+y}{x}$
3.  $(x-y) dy - (x+y) dx = 0$
4.  $(x^2 - y^2) dx + 2xy dy = 0$
5.  $x^2 \frac{dy}{dx} = x^2 - 2y^2 + xy$
6.  $x dy - y dx = \sqrt{x^2 + y^2} dx$
7.  $\left\{ x \cos\left(\frac{y}{x}\right) + y \sin\left(\frac{y}{x}\right) \right\} y dx = \left\{ y \sin\left(\frac{y}{x}\right) - x \cos\left(\frac{y}{x}\right) \right\} x dy$
8.  $x \frac{dy}{dx} - y + x \sin\left(\frac{y}{x}\right) = 0$
9.  $y dx + x \log\left(\frac{y}{x}\right) dy - 2x dy = 0$
10.  $\left(1 + e^{\frac{x}{y}}\right) dx + e^{\frac{x}{y}} \left(1 - \frac{x}{y}\right) dy = 0$

11 से 15 तक के प्रश्नों में प्रत्येक अवकल समीकरण के लिए दिए हुए प्रतिबंध को संतुष्ट करने वाला विशिष्ट हल ज्ञात कीजिए।

11.  $(x+y) dy + (x-y) dx = 0$ ;  $y = 1$  यदि  $x = 1$
12.  $x^2 dy + (xy + y^2) dx = 0$ ;  $y = 1$  यदि  $x = 1$

13.  $\left[ x \sin^2\left(\frac{y}{x}\right) - y \right] dx + x dy = 0$ ;  $y = \frac{\pi}{4}$  यदि  $x = 1$
14.  $\frac{dy}{dx} - \frac{y}{x} + \operatorname{cosec}\left(\frac{y}{x}\right) = 0$ ;  $y = 0$  यदि  $x = 1$
15.  $2xy + y^2 - 2x^2 \frac{dy}{dx} = 0$ ;  $y = 2$  यदि  $x = 1$
16.  $\frac{dx}{dy} = h\left(\frac{x}{y}\right)$  के रूप वाले समघातीय अवकल समीकरण को हल करने के लिए निम्नलिखित में से कौन सा प्रतिस्थापन किया जाता है:  
 (A)  $y = vx$       (B)  $v = yx$       (C)  $x = vy$       (D)  $x = v$
17. निम्नलिखित में से कौन सा समघातीय अवकल समीकरण है?  
 (A)  $(4x + 6y + 5) dy - (3y + 2x + 4) dx = 0$   
 (B)  $(xy) dx - (x^3 + y^3) dy = 0$   
 (C)  $(x^3 + 2y^2) dx + 2xy dy = 0$   
 (D)  $y^2 dx + (x^2 - xy - y^2) dy = 0$

### 9.5.3 रैखिक अवकल समीकरण (Linear differential equations)

$$\frac{dy}{dx} + Py = Q,$$

के रूप वाला अवकल समीकरण, जिसमें P एवं Q अचर अथवा केवल  $x$  के फलन हैं, प्रथम कोटि का रैखिक अवकल समीकरण कहलाता है। प्रथम कोटि के रैखिक अवकल समीकरण के कुछ उदाहरण इस प्रकार हैं:

$$\frac{dy}{dx} + y = \sin x$$

$$\frac{dy}{dx} + \left(\frac{1}{x}\right)y = e^x$$

$$\frac{dy}{dx} + \left(\frac{y}{x \log x}\right) = \frac{1}{x}$$

प्रथम कोटि के रैखिक अवकल समीकरण का दूसरा रूप सेकेंड  $\frac{dx}{dy} + P_1x = Q_1$  है, जिसमें  $P_1$  और  $Q_1$  अचर अथवा केवल  $y$  के फलन हैं। इस प्रकार के अवकल समीकरण के कुछ उदाहरण निम्नलिखित हैं:

$$\frac{dx}{dy} + x = \cos y$$

$$\frac{dx}{dy} + \frac{-2x}{y} = y^2 e^{-y}$$

प्रथम कोटि के रैखिक अवकल समीकरण

$$\frac{dy}{dx} + P y = Q \quad \dots (1)$$

को हल करने के लिए समीकरण के दोनों पक्षों को  $x$  के फलन  $g(x)$  से गुणा करने पर हम प्राप्त करते हैं:

$$g(x) \frac{dy}{dx} + P \cdot g(x) y = Q \cdot g(x) \quad \dots (2)$$

$g(x)$  का चयन इस प्रकार कीजिए ताकि समीकरण का बायाँ पक्ष  $y \cdot g(x)$  का अवकलज बन जाए:

अर्थात् 
$$g(x) \frac{dy}{dx} + P \cdot g(x) y = \frac{d}{dx} [y \cdot g(x)]$$

अथवा 
$$g(x) \frac{dy}{dx} + P \cdot g(x) y = g(x) \frac{dy}{dx} + y g'(x)$$

$\Rightarrow$  
$$P \cdot g(x) = g'(x)$$

अथवा 
$$P = \frac{g'(x)}{g(x)}$$

दोनों पक्षों का  $x$  के सापेक्ष समाकलन करने पर हम प्राप्त करते हैं:

$$\int P dx = \int \frac{g'(x)}{g(x)} dx$$

अथवा 
$$\int P \cdot dx = \log(g(x))$$

अथवा 
$$g(x) = e^{\int P dx}$$

समीकरण (1) को  $g(x) = e^{\int P dx}$  से गुणा करने पर उस समीकरण का बायाँ पक्ष  $x$  तथा  $y$  के किसी फलन का अवकलज बन जाता है। यह फलन  $g(x) = e^{\int P dx}$  दिए हुए अवकल समीकरण का **समाकलन गुणक (I.F.)** कहलाता है।

समीकरण (2) में  $g(x)$  का मान प्रतिस्थापित करने पर हम प्राप्त करते हैं:

$$e^{\int P dx} \frac{dy}{dx} + P e^{\int P dx} y = Q \cdot e^{\int P dx}$$

अथवा 
$$\frac{d}{dx} (y e^{\int P dx}) = Q e^{\int P dx}$$

दोनों पक्षों का  $x$ , के सापेक्ष समाकलन करने पर हम प्राप्त करते हैं:

$$y \cdot e^{\int P dx} = \int (Q \cdot e^{\int P dx}) dx$$

अथवा 
$$y = e^{-\int P dx} \cdot \int (Q \cdot e^{\int P dx}) dx + C$$

यह अवकल समीकरण का व्यापक हल है।

**प्रथम कोटि के रैखिक अवकल समीकरण को हल करने के लिए सम्मिलित चरण:**

- (i) दिए हुए अवकल समीकरण को  $\frac{dy}{dx} + Py = Q$  के रूप में लिखिए जिसमें  $P, Q$  अचर अथवा केवल  $x$  के फलन हैं।
- (ii) समाकलन गुणक (I.F.) =  $e^{\int P dx}$  ज्ञात कीजिए।
- (iii) दिए हुए अवकल समीकरण का हल निम्नलिखित रूप में लिखिए:

$$y \cdot (\text{I.F.}) = \int (Q \times \text{I.F.}) dx + C$$

यदि प्रथम कोटि का रैखिक अवकल समीकरण  $\frac{dx}{dy} + P_1 x = Q_1$  के रूप में है जिसमें  $P_1$  और  $Q_1$

अचर अथवा केवल  $y$  के फलन हैं, तब I.F. =  $e^{\int P_1 dy}$  और

$$x \cdot (\text{I.F.}) = \int (Q_1 \times \text{I.F.}) dy + C \text{ अवकल समीकरण का हल है।}$$

**उदाहरण 19** अवकल समीकरण  $\frac{dy}{dx} - y = \cos x$  का व्यापक हल ज्ञात कीजिए।

**हल** दिया हुआ अवकल समीकरण

$$\frac{dy}{dx} + Py = Q \text{ है, जहाँ } P = -1 \text{ और } Q = \cos x$$

इसलिए I.F. =  $e^{\int -1 dx} = e^{-x}$

समीकरण के दोनों पक्षों को I.F. से गुणा करने पर हम प्राप्त करते हैं:

$$e^{-x} \frac{dy}{dx} - e^{-x} y = e^{-x} \cos x$$

अथवा 
$$\frac{d}{dx} (y e^{-x}) = e^{-x} \cos x$$



दोनों पक्षों का  $x$  के सापेक्ष समाकलन करने पर हम प्राप्त करते हैं:

$$y e^{-x} = \int e^{-x} \cos x dx + C \quad \dots (1)$$

मान लीजिए कि

$$\begin{aligned} I &= \int e^{-x} \cos x dx \\ &= \cos x \left( \frac{e^{-x}}{-1} \right) - \int (-\sin x) (-e^{-x}) dx \\ &= -\cos x e^{-x} - \int \sin x e^{-x} dx \\ &= -\cos x e^{-x} - \left[ \sin x (-e^{-x}) - \int \cos x (-e^{-x}) dx \right] \\ &= -\cos x e^{-x} + \sin x e^{-x} - \int \cos x e^{-x} dx \end{aligned}$$

अथवा

$$I = -e^{-x} \cos x + \sin x e^{-x} - I$$

अथवा

$$2I = (\sin x - \cos x) e^{-x}$$

अथवा

$$I = \frac{(\sin x - \cos x) e^{-x}}{2}$$

समीकरण (1) में  $I$  का मान प्रतिस्थापित करने पर हम प्राप्त करते हैं:

$$y e^{-x} = \left( \frac{\sin x - \cos x}{2} \right) e^{-x} + C$$

अथवा

$$y = \frac{\sin x - \cos x}{2} + C e^x$$

यह दिए हुए अवकल समीकरण का व्यापक हल है।

**उदाहरण 20** अवकल समीकरण  $x \frac{dy}{dx} + 2y = x^2$  ( $x \neq 0$ ) का व्यापक हल ज्ञात कीजिए।

**हल** दिया हुआ अवकल समीकरण है:

$$x \frac{dy}{dx} + 2y = x^2 \quad \dots (1)$$

समीकरण (1) के दोनों पक्षों को  $x$  से भाग देने पर हम प्राप्त करते हैं:

$$\frac{dy}{dx} + \frac{2}{x} y = x$$

यह,  $\frac{dy}{dx} + Py = Q$ , के रूप का रैखिक अवकल समीकरण है। यहाँ  $P = \frac{2}{x}$  एवं  $Q = x$  है।

इसलिए

$$I.F. = e^{\int \frac{2}{x} dx} = e^{2 \log x} = e^{\log x^2} = x^2 \quad [\text{जैसा कि } e^{\log f(x)} = f(x)]$$

इसलिए दिए हुए समीकरण का हल है:

$$y \cdot x^2 = \int (x)(x^2) dx + C = \int x^3 dx + C$$

अथवा 
$$y = \frac{x^2}{4} + Cx^{-2}$$

यह दिए हुए अवकल समीकरण का व्यापक हल है।

**उदाहरण 21** अवकल समीकरण  $y dx - (x + 2y^2) dy = 0$  का व्यापक हल ज्ञात कीजिए।

**हल** दिया हुआ अवकल समीकरण निम्नलिखित रूप में लिखा जा सकता है:

$$\frac{dx}{dy} - \frac{x}{y} = 2y$$

यह,  $\frac{dx}{dy} + P_1x = Q_1$ , के रूप वाला रैखिक अवकल समीकरण है। यहाँ  $P_1 = -\frac{1}{y}$  एवं

$$Q_1 = 2y \text{ है। इसलिए I.F.} = e^{\int -\frac{1}{y} dy} = e^{-\log y} = e^{\log(y)^{-1}} = \frac{1}{y}$$

अतः दिए हुए अवकल समीकरण का हल है:

$$x \frac{1}{y} = \int (2y) \left( \frac{1}{y} \right) dy + C$$

अथवा 
$$\frac{x}{y} = \int 2 dy + C$$

अथवा 
$$\frac{x}{y} = 2y + C$$

अथवा 
$$x = 2y^2 + Cy$$

यह दिए हुए अवकल समीकरण का व्यापक हल है।

**उदाहरण 22** अवकल समीकरण

$$\frac{dy}{dx} + y \cot x = 2x + x^2 \cot x \quad (x \neq 0)$$

का विशिष्ट हल ज्ञात कीजिए, दिया हुआ है कि  $y = 0$  यदि  $x = \frac{\pi}{2}$

**हल** दिया हुआ अवकल समीकरण  $\frac{dy}{dx} + Py = Q$ , के रूप का रैखिक अवकल समीकरण है। यहाँ

$P = \cot x$  और  $Q = 2x + x^2 \cot x$  है। इसलिए

$$\text{I.F.} = e^{\int \cot x \, dx} = e^{\log \sin x} = \sin x$$

अतः अवकल समीकरण का हल है:

$$y \cdot \sin x = \int (2x + x^2 \cot x) \sin x \, dx + C$$

अथवा  $y \sin x = \int 2x \sin x \, dx + \int x^2 \cos x \, dx + C$

अथवा  $y \sin x = \sin x \left( \frac{2x^2}{2} \right) - \int \cos x \left( \frac{2x^2}{2} \right) dx + \int x^2 \cos x \, dx + C$

अथवा  $y \sin x = x^2 \sin x - \int x^2 \cos x \, dx + \int x^2 \cos x \, dx + C$

अथवा  $y \sin x = x^2 \sin x + C \quad \dots (1)$

समीकरण (1) में  $y = 0$  एवं  $x = \frac{\pi}{2}$  प्रतिस्थापित करने पर हम प्राप्त करते हैं:

$$0 = \left( \frac{\pi}{2} \right)^2 \sin \left( \frac{\pi}{2} \right) + C$$

अथवा  $C = \frac{-\pi^2}{4}$

समीकरण (1) में  $C$  का मान प्रतिस्थापित करने पर हम प्राप्त करते हैं:

$$y \sin x = x^2 \sin x - \frac{\pi^2}{4}$$

अथवा  $y = x^2 - \frac{\pi^2}{4 \sin x} \quad (\sin x \neq 0)$

यह दिए हुए अवकल समीकरण का विशिष्ट हल है।

**उदाहरण 23** बिन्दु  $(0, 1)$  से गुजरने वाले एक वक्र का समीकरण ज्ञात कीजिए, यदि इस वक्र के किसी बिंदु  $(x, y)$  पर स्पर्श रेखा की प्रवणता, उस बिंदु के  $x$  निर्देशांक (भुज) तथा  $x$  निर्देशांक और  $y$  निर्देशांक (कोटि) के गुणनफल के योग के बराबर है।

**हल** हम जानते हैं कि वक्र की स्पर्श रेखा की प्रवणता  $\frac{dy}{dx}$  के बराबर होती है। इसलिए

$$\frac{dy}{dx} = x + xy$$

अथवा  $\frac{dy}{dx} - xy = x \quad \dots (1)$

समीकरण (1),  $\frac{dy}{dx} + Py = Q$  के रूप का रैखिक अवकल समीकरण है। यहाँ  $P = -x$  एवं  $Q = x$  है। इसलिए

$$\text{I.F.} = e^{\int -x dx} = e^{-\frac{x^2}{2}}$$

अतः दिए हुए समीकरण का हल है:

$$y \cdot e^{-\frac{x^2}{2}} = \int (x) \left( e^{-\frac{x^2}{2}} \right) dx + C \quad \dots (2)$$

मान लीजिए  $I = \int (x) e^{-\frac{x^2}{2}} dx$

मान लीजिए  $\frac{-x^2}{2} = t$ , तब  $-x dx = dt$  या  $x dx = -dt$

इसलिए  $I = -\int e^t dt = -e^t = -e^{-\frac{x^2}{2}}$

समीकरण (2) में I का मान प्रतिस्थापित करने पर, हम पाते हैं:

$$y e^{-\frac{x^2}{2}} = -e^{-\frac{x^2}{2}} + C$$

अथवा  $y = -1 + C e^{\frac{x^2}{2}} \quad \dots (3)$

समीकरण (3) वक्रों के कुल का समीकरण है परंतु हम इस कुल के ऐसे सदस्य का समीकरण ज्ञात करना चाहते हैं जो बिंदु (0, 1) से गुजरता हो। समीकरण (3) में  $x = 0$  एवं  $y = 1$  प्रतिस्थापित करने पर हम पाते हैं:

$$1 = -1 + C \cdot e^0 \text{ अथवा } C = 2$$

समीकरण (3) में C का मान प्रतिस्थापित करने पर हम प्राप्त करते हैं:

$$y = -1 + 2 e^{\frac{x^2}{2}}$$

यह वक्र का अभीष्ट समीकरण है।

### प्रश्नावली 9.6

1 से 12 तक के प्रश्नों में, प्रत्येक अवकल समीकरण का व्यापक हल ज्ञात कीजिए:

1.  $\frac{dy}{dx} + 2y = \sin x$       2.  $\frac{dy}{dx} + 3y = e^{-2x}$       3.  $\frac{dy}{dx} + \frac{y}{x} = x^2$

4.  $\frac{dy}{dx} + (\sec x) y = \tan x \left( 0 \leq x < \frac{\pi}{2} \right)$       5.  $\cos^2 x \frac{dy}{dx} + y = \tan x \left( 0 \leq x < \frac{\pi}{2} \right)$

$$6. x \frac{dy}{dx} + 2y = x^2 \log x \qquad 7. x \log x \frac{dy}{dx} + y = \frac{2}{x} \log x$$

$$8. (1 + x^2) dy + 2xy dx = \cot x dx \quad (x \neq 0)$$

$$9. x \frac{dy}{dx} + y - x + xy \cot x = 0 \quad (x \neq 0) \qquad 10. (x + y) \frac{dy}{dx} = 1$$

$$11. y dx + (x - y^2) dy = 0 \qquad 12. (x + 3y^2) \frac{dy}{dx} = y \quad (y > 0).$$

13 से 15 तक के प्रश्नों में प्रत्येक अवकल समीकरण के लिए दिए हुए प्रतिबंध को संतुष्ट करने वाला विशिष्ट हल ज्ञात कीजिए:

$$13. \frac{dy}{dx} + 2y \tan x = \sin x; y = 0 \text{ यदि } x = \frac{\pi}{3}$$

$$14. (1 + x^2) \frac{dy}{dx} + 2xy = \frac{1}{1 + x^2}; y = 0 \text{ यदि } x = 1$$

$$15. \frac{dy}{dx} - 3y \cot x = \sin 2x; y = 2 \text{ यदि } x = \frac{\pi}{2}$$

16. मूल बिंदु से गुजरने वाले एक वक्र का समीकरण ज्ञात कीजिए यदि इस वक्र के किसी बिंदु  $(x, y)$  पर स्पर्श रेखा की प्रवणता उस बिंदु के निर्देशांकों के योग के बराबर है।

17. बिंदु  $(0, 2)$  से गुजरने वाले वक्र का समीकरण ज्ञात कीजिए यदि इस वक्र के किसी बिंदु के निर्देशांकों का योग उस बिंदु पर खींची गई स्पर्श रेखा की प्रवणता के परिमाण से 5 अधिक है।

18. अवकल समीकरण  $x \frac{dy}{dx} - y = 2x^2$  का समाकलन गुणक है:

$$(A) e^{-x} \qquad (B) e^{-y} \qquad (C) \frac{1}{x} \qquad (D) x$$

19. अवकल समीकरण  $(1 - y^2) \frac{dx}{dy} + yx = ay \quad (-1 < y < 1)$  का समाकलन गुणक है:

$$(A) \frac{1}{y^2 - 1} \qquad (B) \frac{1}{\sqrt{y^2 - 1}} \qquad (C) \frac{1}{1 - y^2} \qquad (D) \frac{1}{\sqrt{1 - y^2}}$$

### विविध उदाहरण

**उदाहरण 24** सत्यापित कीजिए कि फलन  $y = c_1 e^{ax} \cos bx + c_2 e^{ax} \sin bx$ , जहाँ  $c_1, c_2$  स्वेच्छ अचर हैं, अवकल समीकरण

$$\frac{d^2 y}{dx^2} - 2a \frac{dy}{dx} + (a^2 + b^2)y = 0 \text{ का हल है।}$$

**हल** दिया हुआ फलन है:

$$y = e^{ax} [c_1 \cos bx + c_2 \sin bx] \quad \dots (1)$$

समीकरण (1) के दोनों पक्षों का  $x$  के सापेक्ष अवकलन करने पर हम पाते हैं कि

$$\frac{dy}{dx} = e^{ax} [-bc_1 \sin bx + bc_2 \cos bx] + [c_1 \cos bx + c_2 \sin bx] e^{ax} \cdot a$$

अथवा 
$$\frac{dy}{dx} = e^{ax} [(bc_2 + ac_1) \cos bx + (ac_2 - bc_1) \sin bx] \quad \dots (2)$$

समीकरण (2) के दोनों पक्षों का  $x$ , के सापेक्ष अवकलन करने पर हम पाते हैं कि

$$\begin{aligned} \frac{d^2 y}{dx^2} &= e^{ax} [(bc_2 + ac_1) (-\sin bx \cdot b) + (ac_2 - bc_1) (\cos bx \cdot b)] \\ &\quad + [(bc_2 + ac_1) \cos bx + (ac_2 - bc_1) \sin bx] e^{ax} \cdot a \\ &= e^{ax} [(a^2 c_2 - 2abc_1 - b^2 c_2) \sin bx + (a^2 c_1 + 2abc_2 - b^2 c_1) \cos bx] \end{aligned}$$

दिए गए अवकल समीकरण में  $\frac{d^2 y}{dx^2}, \frac{dy}{dx}$  एवं  $y$  का मान प्रतिस्थापित करने पर हम पाते हैं:

$$\begin{aligned} \text{बायाँ पक्ष} &= e^{ax} [a^2 c_2 - 2abc_1 - b^2 c_2] \sin bx + (a^2 c_1 + 2abc_2 - b^2 c_1) \cos bx \\ &\quad - 2ae^{ax} [(bc_2 + ac_1) \cos bx + (ac_2 - bc_1) \sin bx] \\ &\quad + (a^2 + b^2) e^{ax} [c_1 \cos bx + c_2 \sin bx] \\ &= e^{ax} \left[ (a^2 c_2 - 2abc_1 - b^2 c_2 - 2a^2 c_2 + 2abc_1 + a^2 c_2 + b^2 c_2) \sin bx \right. \\ &\quad \left. + (a^2 c_1 + 2abc_2 - b^2 c_1 - 2abc_2 - 2a^2 c_1 + a^2 c_1 + b^2 c_1) \cos bx \right] \\ &= e^{ax} [0 \times \sin bx + 0 \cos bx] = e^{ax} \times 0 = 0 = \text{दायाँ पक्ष} \end{aligned}$$

इसलिए दिया हुआ फलन दिए हुए अवकल समीकरण का हल है।

**उदाहरण 25** द्वितीय चतुर्थांश में ऐसे वृत्तों के कुल का अवकल समीकरण ज्ञात कीजिए जो निर्देशांक अक्षों का स्पर्श करते हैं।

**हल** मान लीजिए, निर्देशांक अक्षों को स्पर्श करने वाला और द्वितीय चतुर्थांश में बना वृत्तों का कुल C द्वारा निर्दिष्ट किया जाता है। इस कुल के किसी सदस्य के केंद्र बिंदु के निर्देशांक  $(-a, a)$  हैं (आकृति 9.6 देखिए)।

कुल C को निरूपित करने वाला समीकरण है:

$$(x + a)^2 + (y - a)^2 = a^2 \quad \dots (1)$$

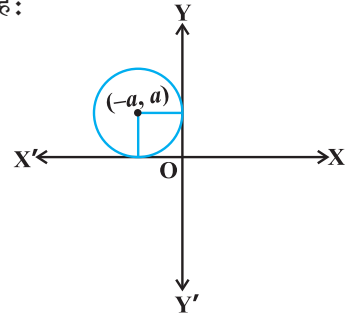
अथवा  $x^2 + y^2 + 2ax - 2ay + a^2 = 0 \quad \dots (2)$

समीकरण (2) का  $x$  के सापेक्ष अवकलन करने पर हम पाते हैं:

$$2x + 2y \frac{dy}{dx} + 2a - 2a \frac{dy}{dx} = 0$$

अथवा  $x + y \frac{dy}{dx} = a \left( \frac{dy}{dx} - 1 \right)$

अथवा  $a = \frac{x + y y'}{y' - 1}$



समीकरण (1) में  $a$  का मान प्रतिस्थापित करने पर हम पाते हैं:

आकृति 9.6

$$\left[ x + \frac{x + y y'}{y' - 1} \right]^2 + \left[ y - \frac{x + y y'}{y' - 1} \right]^2 = \left[ \frac{x + y y'}{y' - 1} \right]^2$$

अथवा  $[x y' - x + x + y y']^2 + [y y' - y - x - y y']^2 = [x + y y']^2$

अथवा  $(x + y)^2 y'^2 + [x + y]^2 = [x + y y']^2$

अथवा  $(x + y)^2 [(y')^2 + 1] = [x + y y']^2$

जो दिए हुए वृत्तों के कुल को निरूपित करने वाला अवकल समीकरण है।

**उदाहरण 26** अवकल समीकरण  $\log \left( \frac{dy}{dx} \right) = 3x + 4y$  का विशिष्ट हल ज्ञात कीजिए। दिया हुआ

है कि  $y = 0$  यदि  $x = 0$

**हल** दिया हुआ अवकल समीकरण निम्नलिखित रूप में लिखा जा सकता है:

$$\frac{dy}{dx} = e^{(3x+4y)}$$

$$\text{अथवा} \quad \frac{dy}{dx} = e^{3x} \cdot e^{4y} \quad \dots (1)$$

चरों को पृथक् करने पर हम पाते हैं,

$$\frac{dy}{e^{4y}} = e^{3x} dx$$

$$\text{इसलिए} \quad \int e^{-4y} dy = \int e^{3x} dx$$

$$\text{अथवा} \quad \frac{e^{-4y}}{-4} = \frac{e^{3x}}{3} + C$$

$$\text{अथवा} \quad 4 e^{3x} + 3 e^{-4y} + 12 C = 0 \quad \dots (2)$$

समीकरण (2) में  $x = 0$  एवं  $y = 0$  प्रतिस्थापित करने पर हम पाते हैं:

$$4 + 3 + 12 C = 0 \text{ अथवा } C = \frac{-7}{12}$$

समीकरण (2) में  $C$  का मान प्रतिस्थापित करने पर हम,

$$4 e^{3x} + 3 e^{-4y} - 7 = 0, \text{ प्राप्त करते हैं}$$

यह दिए हुए अवकल समीकरण का एक विशिष्ट हल है।

### उदाहरण 27 अवकल समीकरण

$$(x dy - y dx) y \sin\left(\frac{y}{x}\right) = (y dx + x dy) x \cos\left(\frac{y}{x}\right) \text{ को हल कीजिए।}$$

**हल** दिया हुआ अवकल समीकरण निम्नलिखित रूप में लिखा जा सकता है।

$$\left[ x y \sin\left(\frac{y}{x}\right) - x^2 \cos\left(\frac{y}{x}\right) \right] dy = \left[ x y \cos\left(\frac{y}{x}\right) + y^2 \sin\left(\frac{y}{x}\right) \right] dx$$

$$\text{अथवा} \quad \frac{dy}{dx} = \frac{xy \cos\left(\frac{y}{x}\right) + y^2 \sin\left(\frac{y}{x}\right)}{xy \sin\left(\frac{y}{x}\right) - x^2 \cos\left(\frac{y}{x}\right)}$$

दायें पक्ष पर अंश एवं हर दोनों को  $x^2$  से भाग देने पर हम पाते हैं:

$$\frac{dy}{dx} = \frac{\frac{y}{x} \cos\left(\frac{y}{x}\right) + \left(\frac{y^2}{x^2}\right) \sin\left(\frac{y}{x}\right)}{\frac{y}{x} \sin\left(\frac{y}{x}\right) - \cos\left(\frac{y}{x}\right)} \quad \dots (1)$$



स्पष्टतः समीकरण (1),  $\frac{dy}{dx} = g\left(\frac{y}{x}\right)$  के रूप का समघातीय अवकल समीकरण है, इसलिए इस समीकरण को हल करने के लिए हम

$$y = vx \quad \dots (2)$$

प्रतिस्थापित करते हैं।

अथवा 
$$\frac{dy}{dx} = v + x \frac{dv}{dx}$$

अथवा 
$$v + x \frac{dv}{dx} = \frac{v \cos v + v^2 \sin v}{v \sin v - \cos v}$$
 [समीकरण (1) और (2) का प्रयोग करने पर]

अथवा 
$$x \frac{dv}{dx} = \frac{2v \cos v}{v \sin v - \cos v}$$

अथवा 
$$\left( \frac{v \sin v - \cos v}{v \cos v} \right) dv = \frac{2 dx}{x}$$

इसलिए 
$$\int \left( \frac{v \sin v - \cos v}{v \cos v} \right) dv = 2 \int \frac{1}{x} dx$$

अथवा 
$$\int \tan v dv - \int \frac{1}{v} dv = 2 \int \frac{1}{x} dx$$

अथवा 
$$\log |\sec v| - \log |v| = 2 \log |x| + \log |C_1|$$

अथवा 
$$\log \left| \frac{\sec v}{v x^2} \right| = \log |C_1|$$

अथवा 
$$\frac{\sec v}{v x^2} = \pm C_1 \quad \dots (3)$$

समीकरण (3) में  $v$  को  $\frac{y}{x}$  से प्रतिस्थापित करने पर हम पाते हैं कि

$$\frac{\sec\left(\frac{y}{x}\right)}{\left(\frac{y}{x}\right)(x^2)} = C, \text{ जहाँ } C = \pm C_1$$

अथवा 
$$\sec\left(\frac{y}{x}\right) = C xy$$

यह दिए हुए अवकल समीकरण का व्यापक हल है।

**उदाहरण 28** अवकल समीकरण

$$(\tan^{-1}y - x) dy = (1 + y^2) dx \text{ का हल ज्ञात कीजिए।}$$

**हल** दिया हुआ अवकल समीकरण निम्नलिखित रूप में लिखा जा सकता है:

$$\frac{dx}{dy} + \frac{x}{1+y^2} = \frac{\tan^{-1}y}{1+y^2} \quad \dots (1)$$

समीकरण (1),  $\frac{dx}{dy} + P_1 x = Q_1$ , के रूप का रैखिक अवकल समीकरण है। यहाँ

$$P_1 = \frac{1}{1+y^2} \text{ एवं } Q_1 = \frac{\tan^{-1}y}{1+y^2} \text{ है। इसलिए}$$

$$\text{I.F.} = e^{\int \frac{1}{1+y^2} dy} = e^{\tan^{-1}y}$$

इसलिए दिए हुए अवकल समीकरण का हल है:

$$x e^{\tan^{-1}y} = \int \left( \frac{\tan^{-1}y}{1+y^2} \right) e^{\tan^{-1}y} dy + C \quad \dots (2)$$

मान लीजिए  $I = \int \left( \frac{\tan^{-1}y}{1+y^2} \right) e^{\tan^{-1}y} dy$

$\tan^{-1}y = t$  प्रतिस्थापित करने पर हम पाते हैं कि  $\left( \frac{1}{1+y^2} \right) dy = dt$

अतः  $I = \int t e^t dt, I = t e^t - \int 1 \cdot e^t dt, I = t e^t - e^t = e^t (t - 1)$

अथवा  $I = e^{\tan^{-1}y} (\tan^{-1}y - 1)$

समीकरण (2) में I का मान प्रतिस्थापित करने पर हम

$$x \cdot e^{\tan^{-1}y} = e^{\tan^{-1}y} (\tan^{-1}y - 1) + C \text{ पाते हैं}$$

अथवा  $x = (\tan^{-1}y - 1) + C e^{-\tan^{-1}y}$

यह दिए हुए अवकल समीकरण का व्यापक हल है।

### अध्याय 9 पर विविध प्रश्नावली

1. निम्नलिखित अवकल समीकरणों में से प्रत्येक की कोटि एवं घात (यदि परिभाषित हो) ज्ञात कीजिए।

$$(i) \frac{d^2 y}{dx^2} + 5x \left( \frac{dy}{dx} \right)^2 - 6y = \log x \quad (ii) \left( \frac{dy}{dx} \right)^3 - 4 \left( \frac{dy}{dx} \right)^2 + 7y = \sin x$$

$$(iii) \frac{d^4 y}{dx^4} - \sin \left( \frac{d^3 y}{dx^3} \right) = 0$$

2. निम्नलिखित प्रश्नों में प्रत्येक के लिए सत्यापित कीजिए कि दिया हुआ फलन (अस्पष्ट अथवा स्पष्ट) संगत अवकल समीकरण का हल है।

$$(i) xy = a e^x + b e^{-x} + x^2 \quad : \quad x \frac{d^2 y}{dx^2} + 2 \frac{dy}{dx} - xy + x^2 - 2 = 0$$

$$(ii) y = e^x (a \cos x + b \sin x) \quad : \quad \frac{d^2 y}{dx^2} - 2 \frac{dy}{dx} + 2y = 0$$

$$(iii) y = x \sin 3x \quad : \quad \frac{d^2 y}{dx^2} + 9y - 6 \cos 3x = 0$$

$$(iv) x^2 = 2y^2 \log y \quad : \quad (x^2 + y^2) \frac{dy}{dx} - xy = 0$$

3.  $(x-a)^2 + 2y^2 = a^2$ , द्वारा निरूपित वक्रों के कुल का अवकल समीकरण निर्मित कीजिए जहाँ  $a$  एक स्वेच्छ अचर है।
4. सिद्ध कीजिए कि  $x^2 - y^2 = c$  ( $x^2 + y^2$ )<sup>2</sup> जहाँ  $c$  एक प्राचल है, अवकल समीकरण  $(x^3 - 3x y^2) dx = (y^3 - 3x^2 y) dy$  का व्यापक हल है।
5. प्रथम चतुर्थांश में ऐसे वृत्तों के कुल का अवकल समीकरण ज्ञात कीजिए जो निर्देशांक अक्षों को स्पर्श करते हैं।

6. अवकल समीकरण  $\frac{dy}{dx} + \sqrt{\frac{1-y^2}{1-x^2}} = 0$ , जबकि  $x \neq 1$  का व्यापक हल ज्ञात कीजिए।

7. दर्शाइए कि अवकल समीकरण  $\frac{dy}{dx} + \frac{y^2 + y + 1}{x^2 + x + 1} = 0$  का व्यापक हल

$$(x + y + 1) = A(1 - x - y - 2xy) \text{ है, जिसमें } A \text{ एक प्राचल है।}$$

8. बिंदु  $\left(0, \frac{\pi}{4}\right)$  से गुजरने वाले एक ऐसे वक्र का समीकरण ज्ञात कीजिए जिसका अवकल समीकरण  $\sin x \cos y dx + \cos x \sin y dy = 0$  है।

9. अवकल समीकरण  $(1 + e^{2x}) dy + (1 + y^2) e^x dx = 0$  का एक विशिष्ट हल ज्ञात कीजिए, दिया हुआ है कि  $y = 1$  यदि  $x = 0$ .
10. अवकल समीकरण  $y e^{\frac{x}{y}} dx = \left( x e^{\frac{x}{y}} + y^2 \right) dy$  ( $y \neq 0$ ) का हल ज्ञात कीजिए।
11. अवकल समीकरण  $(x - y)(dx + dy) = dx - dy$  का एक विशिष्ट हल ज्ञात कीजिए, दिया हुआ है कि  $y = -1$ , यदि  $x = 0$  (संकेत:  $x - y = t$  रखें)।
12. अवकल समीकरण  $\left[ \frac{e^{-2\sqrt{x}}}{\sqrt{x}} - \frac{y}{\sqrt{x}} \right] \frac{dx}{dy} = 1$  ( $x \neq 0$ ) का हल ज्ञात कीजिए।
13. अवकल समीकरण  $\frac{dy}{dx} + y \cot x = 4x \operatorname{cosec} x$  ( $x \neq 0$ ) का एक विशिष्ट हल ज्ञात कीजिए, दिया हुआ है कि  $y = 0$  यदि  $x = \frac{\pi}{2}$ .
14. अवकल समीकरण  $(x + 1) \frac{dy}{dx} = 2e^{-y} - 1$  का एक विशिष्ट हल ज्ञात कीजिए, दिया हुआ है कि  $y = 0$  यदि  $x = 0$ .
15. किसी गाँव की जनसंख्या की वृद्धि की दर किसी भी समय उस गाँव के निवासियों की संख्या के समानुपाती है। यदि सन् 1999 में गाँव की जनसंख्या 20,000 थी और सन् 2004 में 25,000 थी, तो ज्ञात कीजिए कि सन् 2009 में गाँव की जनसंख्या क्या होगी?
16. अवकल समीकरण  $\frac{y dx - x dy}{y} = 0$  का व्यापक हल है:
- (A)  $xy = C$       (B)  $x = Cy^2$       (C)  $y = Cx$       (D)  $y = Cx^2$
17.  $\frac{dx}{dy} + P_1 x = Q_1$  के रूप वाले अवकल समीकरण का व्यापक हल है:
- (A)  $y e^{\int P_1 dy} = \int (Q_1 e^{\int P_1 dy}) dy + C$
- (B)  $y \cdot e^{\int P_1 dx} = \int (Q_1 e^{\int P_1 dx}) dx + C$
- (C)  $x e^{\int P_1 dy} = \int (Q_1 e^{\int P_1 dy}) dy + C$
- (D)  $x e^{\int P_1 dx} = \int (Q_1 e^{\int P_1 dx}) dx + C$
18. अवकल समीकरण  $e^x dy + (y e^x + 2x) dx = 0$  का व्यापक हल है:
- (A)  $x e^y + x^2 = C$       (B)  $x e^y + y^2 = C$       (C)  $y e^x + x^2 = C$       (D)  $y e^y + x^2 = C$

### सारांश

- ◆ एक ऐसा समीकरण जिसमें स्वतंत्र चर (चरों) के सापेक्ष आश्रित चर के अवकलज (अवकलजों) सम्मिलित हों, अवकल समीकरण कहलाता है।
- ◆ किसी अवकल समीकरण में सम्मिलित उच्चतम अवकलज की कोटि, उस अवकल समीकरण की कोटि कहलाती है।
- ◆ यदि कोई अवकल समीकरण अवकलजों में बहुपद समीकरण हैं तो उस अवकल समीकरण की घात परिभाषित होती है।
- ◆ किसी अवकल समीकरण की घात (यदि परिभाषित हो) उस अवकल समीकरण में सम्मिलित उच्चतम कोटि अवकलज की उच्चतम घात (केवल धनात्मक पूर्णांक) होती है।
- ◆ एक दिए हुए अवकल समीकरण को संतुष्ट करने वाला फलन उस अवकल समीकरण का हल कहलाता है। एक ऐसा हल जिसमें उतने ही स्वेच्छ अचर हों, जितनी उस अवकल समीकरण की कोटि है, व्यापक हल कहलाता है और स्वेच्छ अचरों से मुक्त हल विशिष्ट हल कहलाता है।
- ◆ किसी दिए हुए फलन से अवकल समीकरण बनाने के लिए हम उस फलन का उत्तरोत्तर उतनी ही बार अवकलन करते हैं जितने उस फलन में स्वेच्छ अचर होते हैं और तब स्वेच्छ अचरों को विलुप्त करते हैं।
- ◆ चर पृथक्करणीय विधि ऐसे समीकरण को हल करने के लिए उपयोग की जाती है जिसमें चरों को पूरी तरह से पृथक् किया जा सकता है अर्थात्  $y$  वाले पद  $dy$  के साथ रहने चाहिए और  $x$  वाले पद  $dx$  के साथ रहने चाहिए।
- ◆ एक ऐसा अवकल समीकरण, जिसको  $\frac{dy}{dx} = f(x, y)$  अथवा  $\frac{dx}{dy} = g(x, y)$  के रूप में अभिव्यक्त किया जा सकता है, जहाँ  $f(x, y)$  एवं  $g(x, y)$  शून्य घात वाले समघातीय फलन हैं, समघातीय अवकल समीकरण कहलाता है।
- ◆  $\frac{dy}{dx} + Py = Q$ , के रूप वाला अवकल समीकरण, जिसमें  $P$  तथा  $Q$  अचर अथवा केवल  $x$  के फलन हैं, प्रथम कोटि रैखिक अवकल समीकरण कहलाता है।

### ऐतिहासिक पृष्ठभूमि

अवकल समीकरण विज्ञान की प्रमुख भाषाओं में से एक है। रोचक तथ्य यह है कि अवकल समीकरणों का अस्तित्व नवंबर 11, 1675 Gottfried Wilhelm Freiherr Leibnitz (1646-1716) ने सर्वप्रथम सर्वसमिका,  $\int y dy = \frac{1}{2} y^2$ , को लिखित रूप में प्रस्तुत किया तथा

उनसे दोनों प्रतीकों  $\int$  और  $dy$  से परिचित कराया। वस्तुतः Leibnitz ऐसी वक्र को ज्ञात करने की समस्या में मग्न थे जिसकी स्पर्श रेखा निर्दिष्ट हों, इस समस्या ने सन् 1691 में उन्हें 'चरों के पृथक्करणीय विधि' के अन्वेषण का मार्गदर्शन कराया। एक वर्ष पश्चात् उन्होंने 'प्रथम कोटि के समघातीय समीकरणों के हल करने की विधि' का सूत्रीकरण किया। वे आगे बढ़े और अल्प समय में उन्होंने 'प्रथम कोटि के रैखिक अवकल समीकरणों को हल करने की विधि' का अन्वेषण किया। कितना आश्चर्यजनक है कि उपर्युक्त सभी विधियों की खोज अकेले एक व्यक्ति द्वारा अवकल समीकरणों के जन्म के पच्चीस वर्षों के अल्पावधि के अंतर्गत संपन्न हुई।

प्रारंभ में केवल समीकरणों के 'हल' करने की प्रविधि को अवकल समीकरणों के 'समाकलन' के रूप में निर्दिष्ट किया गया था। यह शब्द सन् 1690 में प्रथमतः James Bernoulli, (1654-1705) द्वारा प्रचलन में लाया गया। शब्द 'हल' का सर्वप्रथम प्रयोग Joseph Louis Lagrange (1736-1813), द्वारा सन् 1774 में किया गया। यह घटना अवकल समीकरणों के जन्म से लगभग 100 वर्षों बाद घटित हुई। ये Jules Henri Poincare (1854-1912), थे, जिन्होंने शब्द 'हल' के प्रयोग के लिए अकादमिक तर्क प्रस्तुत किया, फलतः आधुनिक शब्दावली में शब्द हल को अपना उचित स्थान प्राप्त हुआ। 'चरों के पृथक्करणीय विधि का नामकरण John Bernoulli (1667-1748), James Bernoulli के अनुज द्वारा किया गया। मई 20, 1715 को Leibnitz को लिखे अपने पत्र में, उन्होने निम्नलिखित अवकल समीकरण के हल की खोज किए

$$x^2 y'' = 2y$$

के हल तीन प्रकार की वक्रों नामतः परवलय, अतिपरवलय और घनीय वक्रों के एक समूह का मार्गदर्शन कराते हैं। यह दर्शाता है कि ऐसे सरल दिखाई पड़ने वाले अवकल समीकरणों के हल कैसे नाना रूप धारण करते हैं। 20वीं शताब्दी के उत्तरार्ध में 'अवकल समीकरणों के गुणात्मक विश्लेषण' शीर्षक के अंतर्गत अवकल समीकरणों के हलों की जटिल प्रकृति के आविष्कार हेतु ध्यान आकर्षित किया गया। आजकल इसने लगभग सभी अविष्कारों हेतु अत्यंत प्रविधि के रूप में प्रमुख स्थान प्राप्त कर लिया है।

